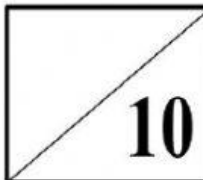


<b>2021-2022</b> <b>SEGUNDO QUINQUEMESTRE</b> <b>EVALUCIÓN QUIMESTRAL</b> <b>CIENCIAS NATURALES</b>			
Docente:	Wendy Romero	Fecha:	
Nombre del estudiante:		Curso:	3ERO EGB 'B'
Bienvenidos a las evaluaciones Quimestral del presente año escolar 2021 - 2022. Favor seguid las siguientes instrucciones para salir exitosos en las mismas.			
<ul style="list-style-type: none"> <li>La evaluación tendrá un tiempo límite de 40 minutos.</li> <li>Los estudiantes deberán utilizar sus propios materiales.</li> <li>Durante el tiempo de la evaluación los estudiantes deberán permanecer en silencio</li> <li>Para solicitar ayuda del docente el estudiante deberá levantar su mano</li> <li>Durante el tiempo de la evaluación no se dará permisos para ir al sanitario</li> <li>Cualquier intento de copia o fraude anulará en examen y el estudiante tendrá una nota inmediata de 0.</li> </ul>			

**1. Escribe la respuesta correcta:**

Los movimientos que realiza la Tierra son dos:



2.- Une la imagen con el sistema que corresponda:

UNE LA IMAGEN CON EL SISTEMA QUE CORRESPONDA



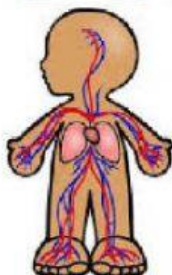
SISTEMA  
OSEO



SISTEMA  
CIRCULATORIO

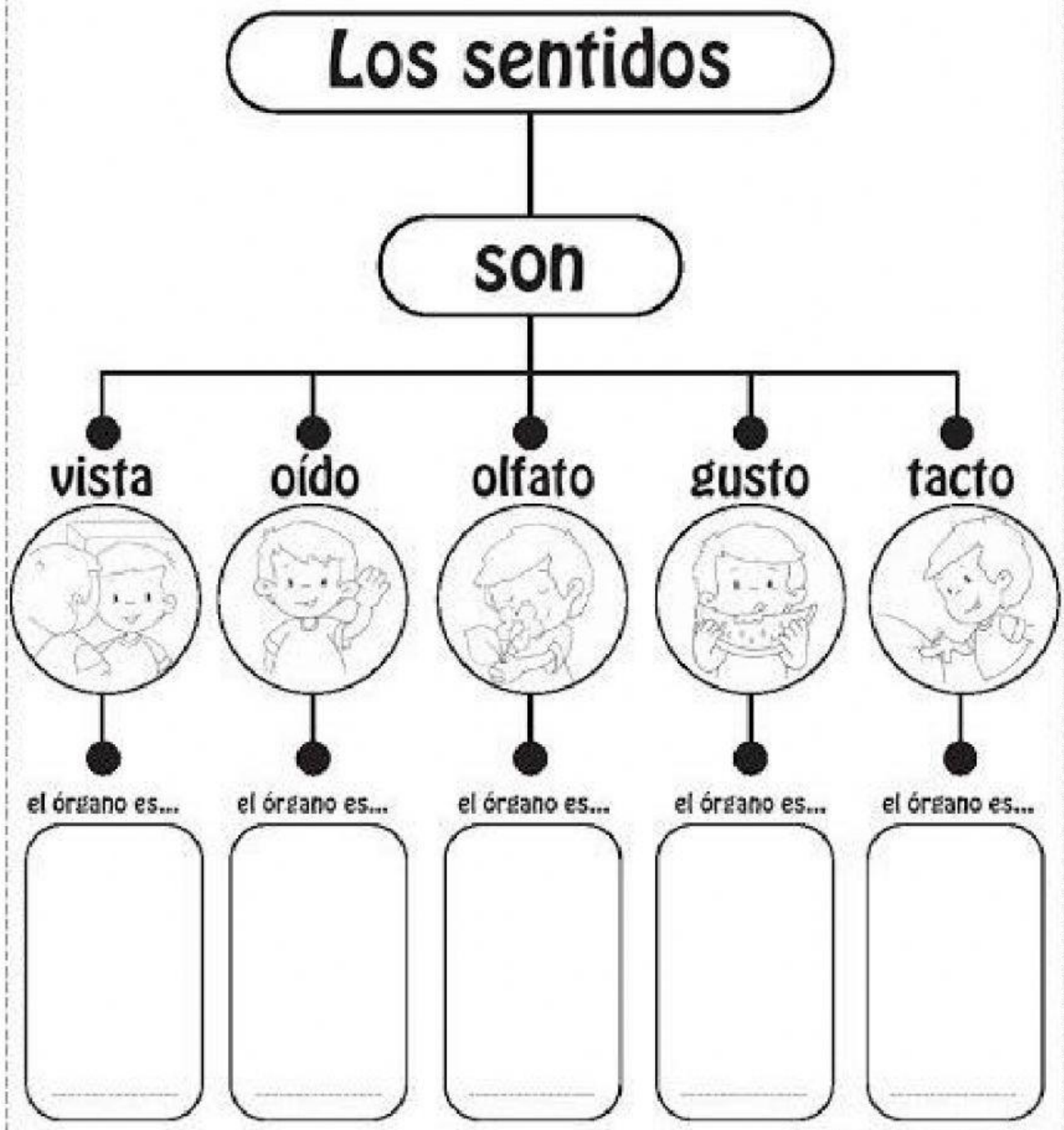


SISTEMA  
DIGESTIVO



SISTEMA  
MUSCULAR

3.-Completa el siguiente organizador gráfico de los sentidos.





4. Une las imágenes con las fases de la luna.

Luna Nueva

Cuarto  
creciente

Luna Llena

Cuarto  
menguante



5. En una hoja aparte, escribe una carta para ti dentro de 10 años.  
Responde la siguiente pregunta. ¿Qué hiciste para cuidar al medio ambiente?

Total puntos: 10			
Tiempo del Estudiante: 40 minutos			
Autoridad	Docente	Estudiante	Representante
Firma:	Firma:	Firma:	Firma: