



INSTITUCION EDUCATIVA PARTICULAR "CAMINOS A LA LUZ"

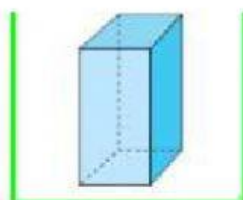
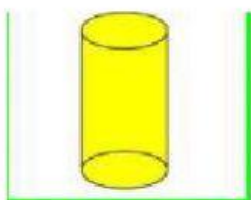


EVALUACION DE MATEMATICA SEGUNDO QUIMESTRE

NOMBRE:

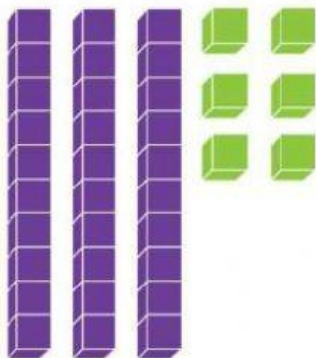
SEGUNDO AÑO E.G.B.

ESCRIBE EL NOMBRE DE LOS CUERPOS GEOMETRICOS




Escribe el número que se representa.

a.



b.



RESOLVER LAS SUMAS Y RESTAS EN LA SEMIRRECTA NUMERICA

Cuenta los saltos de la niña y completa los casilleros.

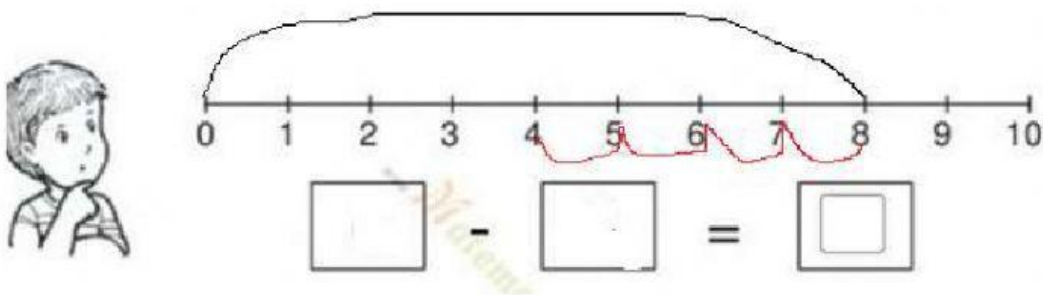





INSTITUCION EDUCATIVA PARTICULAR "CAMINOS A LA LUZ"



CUENTA LOS SALTOS Y LUEGO REALIZA LA RESTA ESCRIBE LOS NUMEROS EN CADA CAJON



COLCA UNA (X) EN EL OBJETO MAS PESADOS



COMPLETA LA TABLA CON EL NOMBRE DE LOS NÚMEROS

90	
150	
225	
300	



INSTITUCION EDUCATIVA PARTICULAR "CAMINOS A LA LUZ"



▶ **Cuenta** el valor y escribe el signo de comparación que corresponde.



OBSERVA Y UNE LAS MONEDAS CON SUS VALORES



5 centavos



50 centavos



1 dólar



10 centavos



25 centavos



1 centavo

enero

marzo

abril

junio

julio

octubre



INSTITUCION EDUCATIVA PARTICULAR "CAMINOS A LA LUZ"



Coloca en orden los días de la semana. **Escribe** los números ordinales del 1.º al 7.º



Observa y une el cuadro que corresponde con la imagen:



Ayer monté
bicicleta.

Hoy alimento a mi
perrito.

Mañana estaré en
clases virtuales.



INSTITUCION EDUCATIVA PARTICULAR "CAMINOS A LA LUZ"



SUMAS Y RESTAS DE TRES CIFRAS

RESTAR

Suma:

	C	D	U
	1	2	6
+	5	4	3
<hr/>			

B.	C	D	U
	2	8	4
-	1	5	3