




FICHA INTERACTIVA: BIOLOGÍA

Instrucciones generales: Lee con detenimiento y selecciona la respuesta correcta para cada pregunta.

1. Identifica y arrastra los nombres de las estructuras que se te presentan.

_____ 

_____ 

_____ 

ARN

PROTEÍNA

ADN

2. Selecciona la respuesta correcta.

¿Qué secuencia de a.a. contiene Fenilalanina?

- Arg, Cys, Val, Pro
- Cys, Pro, Phe, Leu
- Met, Pro, Gly, Ala

3. Completa el siguiente enunciado.

El triplete de inicio es

4. Une con una flecha el orden de las etapas del dogma central de la biología molecular.

Replicación	3
Transcripción	2
Traducción	1

5. Para concluir, observa el siguiente video y comenta con tus compañeros ¿Qué funciones tienen las proteínas? ¿En qué alimentos se encuentran?