

**EXAMEN DE CIENCIAS NATURALES CORRESPONDIENTE
AL SEGUNDO QUIMESTRE
Año Lectivo 2021- 2022**

Nombre:	Calificación / 10
Grado: 5TO	
Fecha:	Firma del representante:
Docente: Lic. Gina Chiguano	
<i>La gente exitosa y no exitosa no varían mucho en sus habilidades. Varían en sus deseos de alcanzar su potencial. -John Maxwell-</i>	

INSTRUCCIONES:

- El tiempo para realizar el examen es de 60 minutos.
- Recuerde escribir su nombre y apellido en el espacio señalado.
- Conteste las preguntas planteadas en el cuestionario siguiendo las instrucciones dadas.

DESARROLLO ITEMS

I. ENCUENTRE EN LA SOPA DE LETRAS LOS PLANETAS DEL SISTEMA SOLAR (total 1 pts.)

1.1. Encuentre los planetas en la sopa de letras

M	E	R	C	U	R	I	O
A	T	S	V	E	N	U	S
D	I	F	G	J	K	L	Ñ
B	E	Y	U	I	O	P	T
V	R	I	M	A	R	T	E
O	R	M	N	C	X	Z	D
T	A	U	O	P	C	X	A
J	U	P	I	T	E	R	A

1.2. ESCRIBA LOS PLANETAS DEL SISTEMA SOLAR QUE FALTAN EN LA SOPA DE LETRAS

.....

.....

II. UBIQUE SEGÚN CORRESPONDA LAS CAPAS DE LA ATMÓSFERA (C//tem 0.20 total 1 pts.)



ESTRATOSFERA


























TROPOSFERA

MESOSFERA

EXOSFERA

TERMOSFERA

III. OBSERVE Y CLASIFIQUE EL TIPO DE RESIDUO EN CADA CONTENEDOR QUE CORRESPONDA (C/ítem 0,10 total 1 pts.)

 Plástico	 Orgánicas	 Papel	 Vidrio	 Infecciosos
				
				
				
				

IV. PROYECTO INTERDISCIPLINARIO

SEÑALE LAS ACCIONES CORRECTAS PARA EL CUIDADO DEL MEDIO AMBIENTE (0,5 pts.)



V. SELECCIONE LA RESPUESTA CORRECTA (C/ítem 0.50 total 1,5 pts.)


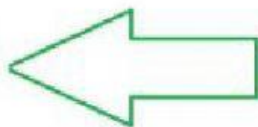
5.1. En el centro de la tierra ejerce una fuerza sobre todas las personas, animales, objetos que se encuentran sobre ella, que tipo de fuerza es:

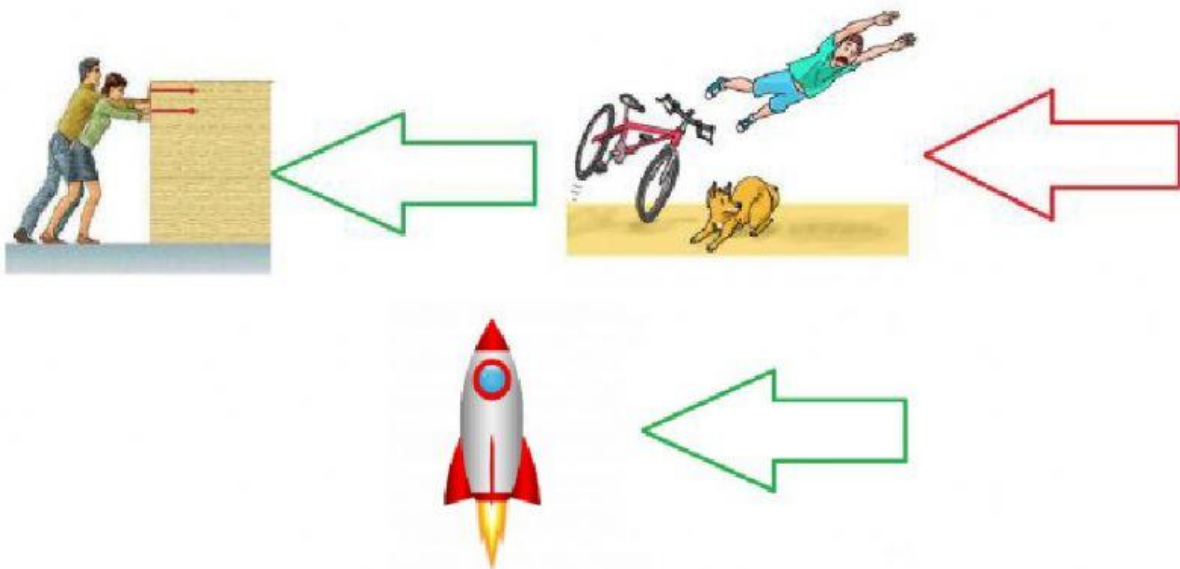
- a. Fuerza normal
- b. Fuerza de gravedad
- c. Fuerza y deformación

5.2. La fuerza que aplicamos a un objeto puede ocasionar:

- a. Aceleración
- b. Deformación
- c. Gravedad

5.3 LEYES DE NEWTOM indique en cada caso a cuál corresponde





ACTIVIDAD DE REFLEXIÓN METACOGNITIVA (total 4.5p)

Responda las siguientes preguntas

VI. ¿Por qué es importante cuidar la capa de ozono?

.....

.....

.....

VII. ¿Por qué debe usted practicar las 3 R en su diario vivir?

.....

.....

.....

VIII. ¿Qué he aprendido de mi proyecto sobre el cuidado del medio ambiente?

.....

.....

.....

VIII. AUTORREGULACIÓN (total 0.5p)

Reflexione sobre lo aprendido. Lea y señale con una X donde corresponda

	Lo hago bien	Lo hago a veces y puedo mejorar	Necesito ayuda para hacerlo
Reconozco los planetas del sistema solar.			
Nombro las capas de la tierra			
Puede proponer medidas de cuidado y protección ambiental			
Reconozco los efectos de la fuerza			

ELABORADO	REVISADO	APROBADO	ESTUDIANTE
DOCENTE: Lic. Gina Chiguano	COMISIÓN TÉCNICO PEDAGÓGICA Lic. Gina Chiguano	DIRECTORA: Lic. Glenda Zambrano	Firma del estudiante
Firma:  Fecha:06-06-2022	Firma:  Fecha:06-06-2022	Firma:  Fecha: 06-06-2022	Firma:..... Fecha:.....