







# UNIDAD MONETARIA

## EJERCICIOS

1. Una las monedas y los billetes con su valor respectivo.

1			a	25 centavos
2			b	5 dólares
3			c	1 dólar
4			d	5 centavos
5			e	50 centavos
6			f	10 dólares
7			g	1 centavo
8			h	10 centavos
9			i	20 dólares

# UNIDAD MONETARIA

**2. Cuente correctamente el dinero y escribe la cantidad correspondiente.**



=



=



=



# UNIDAD MONETARIA

**3. Observe y seleccione la respuesta correcta del costo del juguete con el valor del dinero correspondiente.**

		
--	--	---

## RESPUESTA

--	--	--

