



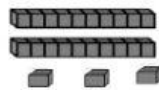
ESCUELA DE EDUCACIÓN BÁSICA  
"ISIDRO AYORA"  
2021 - 2022

CUESTIONARIO DEL SEGUNDO QUIMESTRE DE MATEMÁTICA

GRADO: SEGUNDO

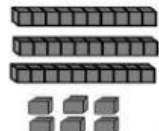
NIVEL: ELEMENTAL

1.- Escriba cuantas decenas y unidades hay en cada ejemplo, realiza la operación de acuerdo al ejemplo. (1 punto)




D	U
2	3

$$20 + 3 = 23$$



D	U

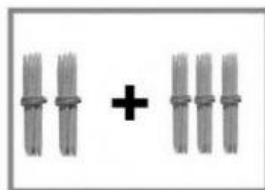
$$\square + \square = \square$$



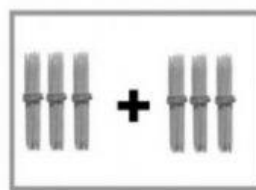
D	U

$$\square + \square = \square$$

2.- Observe coloque las cantidades y suma. (1 punto)

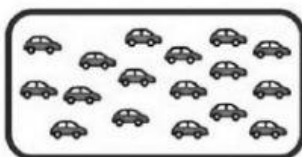


$$\square + \square = \square$$




$$\square + \square = \square$$

3.- Cuente y escriba la cantidad ubicando de forma correcta decenas y unidades en el espacio determinado. (1 punto)



Decena	Unidad



Decena	Unidad

4.- Escriba el número de lados y vértices de las siguientes figuras:


(1 punto)

Figuras	Lados	Vértices



ESCUELA DE EDUCACIÓN BÁSICA  
"ISIDRO AYORA"  
2021 - 2022

5.- Observe las imágenes y luego escriba el nombre de las medidas no convencionales de longitud.  
(1 punto)



6.- Analice la siguiente imagen y completa la tabla. (1 punto)

Represento	Escribo	Leo
	30	treinta

7.- El calendario se cayó al suelo y los meses están en desorden coloque en orden en la tabla. (1 punto)




ESCUELA DE EDUCACIÓN BÁSICA  
"ISIDRO AYORA"  
2021 - 2022

1º		
2º		
3º		
4º		
5º		
6º		
7º		
8º		
9º		
10º		
11º		
12º		


	Junio
Noviembre	
	Febrero
Julio	
	Septiembre
Enero	
	Diciembre
Octubre	
	Marzo
Mayo	
	Agosto
Abril	

8.- Escriba la hora que señalan los relojes como indica el ejemplo. (1 punto)



9.- Coloque en los cuadros el número antecesor y sucesor según corresponda. (1 punto)

	92	
	96	
	98	



	91	
	93	
	95	

10.- Ubique las cantidades y reste. (1 punto)

56 - 42	
D	U

63 - 61	
D	U