



ESCUELA DE EDUCACIÓN GENERAL BÁSICA "ALFREDO BOADA ESPÍN"

Telf. 2365991

Tabacundo – Ecuador



EVALUACIÓN CUARTO PARCIAL 7MOS. AÑOS EESS

NOMBRE _____ CURSO _____ FECHA _____

Indicaciones generales:

- Lea con atención antes de contestar las siguientes interrogantes.
- Cada pregunta equivale un punto, total 10 puntos.
- 1. ¿Cuál es la extensión del Ecuador? (1 PUNTO)

- A. 283 5626 km²
- B. 283 5616 km²
- C. 283 4616 km²
- D. 283 5661 km²

2.-Responda la siguiente pregunta. ¿Qué es democracia? (1 PUNTO)

- A. Una forma de convivencia en la sociedad en la que sus miembros son libres e iguales.
- B. Régimen político que, por la fuerza o violencia, concentra todo el poder en una persona o en un grupo u organización y reprime los derechos humanos y las libertades individuales.
- C. La organización social y económica basada en la propiedad y administración colectiva o estatal de los medios de producción y distribución de los bienes.
- D. Ninguna de las anteriores

3.- La revolución liberal llegó a manos de: (1 PUNTOS)

- A. Gabriel García Moreno
- B. Eugenio Espejo
- C. Eloy Alfaro
- D. Ninguna de las anteriores

4. ¿Qué cambios se implementaron a raíz de la revolución liberal? (1 PUNTOS)

- A. Avance importante en cuanto al sistema educativo.
- B. Cultural, Económico, Social
- C. Participación femenina en la vida pública y política del país.
- D. Ninguna de las anteriores.



ESCUELA DE EDUCACIÓN GENERAL BÁSICA "ALFREDO BOADA ESPÍN"

Telf.2365991

Tabacundo – Ecuador



5.- Señala las acciones realizadas en la administración del Gobierno de Jorge Jamil Mahuad Witt.

(1 PUNTOS)

- A. Renegociación de la deuda externa ..
- B. Se declaro el feriado bancario .
- C. El acuerdo con los Estados Unidos para que ocuparan la base aérea de Manta para facilitar el control de trafico de drogas .
- D. Se regulo la terciarizacion del empleo .

6.-Encuentra en la sopa de letras los apellidos de los ocho presidentes que, para llegar a su cargo, ganaron las elecciones. (2 PUNTOS)

Roldós	Febres Cordero	Borja	Durán Ballén
Mahuad Witt	Gutiérrez	Correa	Moreno

F	E	B	R	E	S	C	O	R	D	E	R	O	Z
Q	X	U	A	O	R	T	O	Y	U	I	O	L	E
W	Z	C	S	A	L	S	D	R	F	G	H	P	R
H	M	A	D	T	Y	D	Y	U	R	I	O	O	R
B	O	R	J	A	A	S	O	S	F	E	G	I	E
R	R	A	F	C	V	B	N	S	J	H	A	U	I
T	E	M	A	H	U	A	D	W	I	T	T	Y	T
Y	N	H	G	H	J	K	L	Ñ	Q	W	E	T	U
U	O	N	É	L	L	A	B	N	Á	R	U	D	G



ESCUELA DE EDUCACIÓN GENERAL BÁSICA "ALFREDO BOADA ESPÍN"

Telf.2365991

Tabacundo – Ecuador



7.-Cuales son las motivaciones que pueden haber generado la emigración masiva de ecuatorianos en los últimos años.

(1 PUNTOS)

- A. Afán de aventura
- B. Conocer otras culturas
- C. Buscar un empleo digno con un mejor salario.
- D. Única esperanza para mejorar su vida.
- E. Ahorrar dinero para enviarlo a sus familias y solucionar deudas adquiridas.
- F. Ninguna de las anteriores.

8.- Que productos se exportan más al exterior:

(1 PUNTOS)

- A. Petróleo, camarón, banano, cacao, flores, frutas tropicales
- B. Metal, arroz, plátano, flores, cacao.
- C. Plásticos, maíz, petróleo, camarón, papaya
- D. Ninguna de las anteriores.

9.- Selecciona las provincias de la Región Amazónica. (1 PUNTOS)

- A. Morona Santiago, Orellana, Sucumbíos, Zamora Chinchipe, Bolívar.
- B. Esmeraldas, Manabí, Guayas, Santa Elena
- C. Carchi, Cotopaxi, Latacunga Pichincha
- D. Morona Santiago, Orellana, Sucumbíos. Zamora Chinchipe.

10.- ¿Qué presidente unió a la sierra y la costa mediante el ferrocarril? (1 PUNTOS)

- A. Eloy Alfaro
- B. Gabriel García Moreno.
- C. Rafael Correa
- D. Jaime Roldós Aguilera

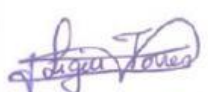






ESCUELA DE EDUCACIÓN GENERAL BÁSICA "ALFREDO BOADA ESPÍN"

Telf. 2365991

Tabacundo – Ecuador



ELABORADO POR:	REVISADO POR:	APROBADO POR:
DOCENTE TUTORES	MSc. Xavier Vargas COORDINADOR DE 7MO AÑOS	MSc. Verónica Gallardo SUBDIRECTORA
<p>FIRMA:</p> <p>Lcda. Ligia Torres</p>  <p>MSc. Xavier Vargas</p>  <p>Lcda. Myriam Pinanjota</p>  <p>Lcda. Norma Méndez</p> 	<p>FIRMA:</p> 	<p>FIRMA:</p> 