


# ¿QUÉ HORA ES?

1. COLOCA CADA CARTEL DÓNDE CORRESPONDA.



Y media

Y veinte

Menos cinco

Y cuarto

Y veinticinco

Y cinco

Menos cuarto

Menos diez

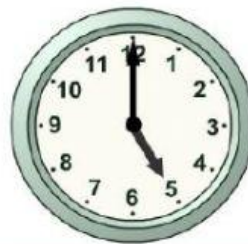
En punto

Menos veinticinco

Y diez

Menos veinte

2. COLOCA CADA HORA DONDE CORRESPONDA.


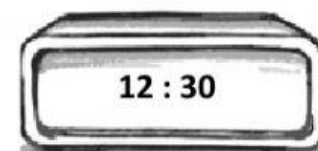
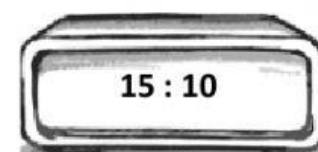
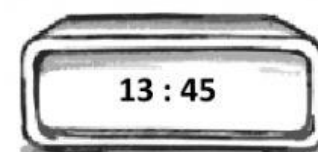



17 : 00


20 : 00

12 : 00

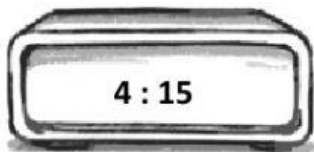
### 3. RELACIONA CADA RELOJ ANALÓGICO CON EL RELOJ DIGITAL.




#### 4. RELACIONA CADA RELOJ ANALÓGICO CON EL RELOJ DIGITAL.




Son las cinco y veinte de la tarde




Son las diez y veinticinco de la mañana




Son las ocho y media de la noche



Son las once y diez de la mañana



Son las cuatro y cuarto de la madrugada



Es la una y cinco