



LICEO MARÍA DE LOS ÁNGELES
EVALUACIÓN DE MATEMÁTICAS- SEGUNDO BIMESTRE
DOCENTE: Sonia Liliana Gamarra Ubaque

NOMBRE: _____ GRADO: PRIMERO FECHA: _____

1. Escribe a cuantas unidades corresponde cada centena.

- 1 centena: _____
- 2 centenas: _____
- 5 centenas: _____
- 8 centenas: _____
- 7 centenas: _____

2. Selecciona únicamente los números que representan las decenas exactas.

10 25 20 42 30 57 33 40
50 28 60 70 75 80 65 90

3. Completa la tabla.

Número	Se lee	d	u
59	Cincuenta y nueve		
	Setenta y siete		
84			
	Treinta y dos		
		2	6

4. Realiza la resta con su prueba.

$$\begin{array}{r} 29 \\ - 15 \\ \hline \end{array}$$

Prueba

$$\begin{array}{r} + \\ \hline \end{array}$$



$$\begin{array}{r} 70 \\ - 28 \\ \hline \end{array}$$

Prueba

$$\begin{array}{r} + \\ \hline \end{array}$$


5. Resuelve las sumas de manera horizontal.

$$\begin{array}{r} d \ u \quad d \ u \\ 42 + 25 = \\ 50 + 6 = \end{array}$$

6. Resuelve las sumas de manera vertical.

$$\begin{array}{r} 15 \\ + 24 \\ \hline \end{array} \quad \begin{array}{r} 32 \\ + 19 \\ \hline \end{array}$$

7. Completa cada serie numérica.



8. Relaciona cada operación con sus términos.

$$\begin{array}{r} 45 \\ +22 \\ \hline 67 \end{array}$$

Sumandos

Minuendo

Sustraendo

Suma o total




Diferencia

$$\begin{array}{r} 67 \\ -12 \\ \hline 55 \end{array}$$

9. Completa la tabla.

Número	Se lee	c	d	u
120		1	2	0
101	Ciento uno			
226		2	2	6
	Doscientos nueve			
	Trescientos quince			

10. Escribe el número que representa en el ábaco cada número.



Mi nota de **autoevaluación** teniendo en cuenta mi trabajo en clase, la presentación oportuna y completa de tareas y actividades en matemáticas es: _____



¡Yo sé que lo harás muy bien, puedes llegar a donde tú quieras!