

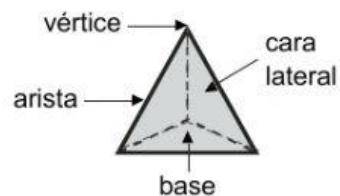
Pirámides: elementos y clasificación

PLAN DE MEJORA

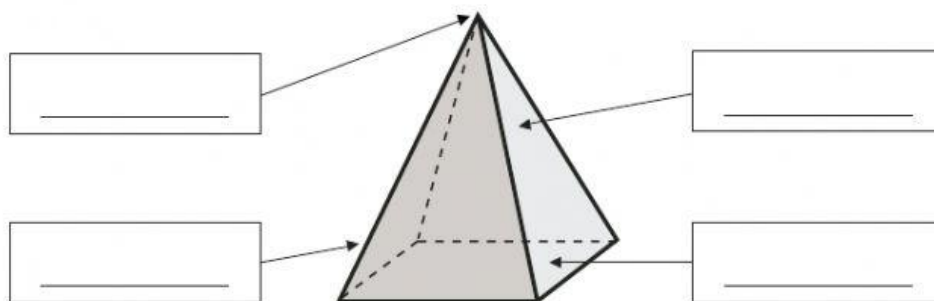
Nombre _____ Fecha _____

RECUERDA

- Los elementos de las pirámides son: **base**, **caras laterales**, **vértices** y **aristas**.
- Las pirámides se clasifican según el polígono de sus bases.







1 Escribe el nombre de los elementos de esta pirámide. Después, contesta.



- ¿Cuántas bases tiene una pirámide? _____
- ¿Cuántas bases tiene un prisma? _____

2 Completa la tabla.

| |  |  |  |  |
|------------------------------|---|---|---|---|
| Número de bases | | | | |
| Forma de la base | | | | |
| Número de caras laterales | | | | |
| Forma de las caras laterales | | | | |
| Número de vértices | | | | |
| Número de aristas | | | | |
| Nombre | | | | |