








## APRENDIENDO LOS NÚMEROS EGIPCIOS

1	10	100	1000	10000	100000	1000000
						

Escribe las soluciones correctas a los números presentados. Recuerda poner puntos cuando es necesario.



1	   	
2	    	
3	       	
4	    	
5	    	
6	  	
7	     	
8	      	