

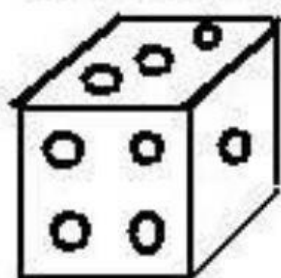


Mistura de Alegria

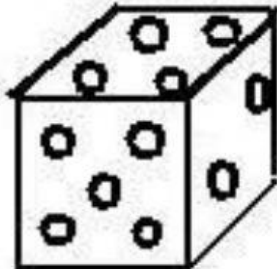
MATEMÁTICA

Observe os dados e complete:

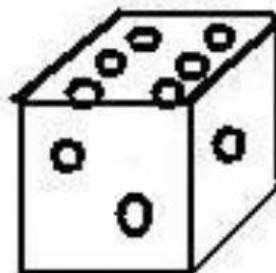
AUGUSTO



NICOLE



YAN



- O dado de Augusto caiu no _____
- O dado de Nicole caiu no _____
- O dado de Yan caiu no _____
- Qual deles caiu no número maior?
- E no número menor?
- E os três juntos? _____
- Faça a operação: _____ + _____ + _____ : _____
- Escreva-os em palavras:
- Augusto: _____ Nicole: _____ Yan: _____

Que numeral formei?

$30 + 9: \underline{\hspace{2cm}}$

$80 + 7: \underline{\hspace{2cm}}$

$50 + 1: \underline{\hspace{2cm}}$

$40 + 3: \underline{\hspace{2cm}}$

$20 + 8: \underline{\hspace{2cm}}$

$10 + 7: \underline{\hspace{2cm}}$

$60 + 9: \underline{\hspace{2cm}}$

$70 + 4: \underline{\hspace{2cm}}$