










## Prueba Ciencias Naturales "Las máquinas".

1. ¿Qué son las máquinas?

Son  formados por una o varias   
que usan  para funcionar.

2. Indica si estas máquinas son simples o compuestas.

|   |   |   |
|---|---|---|
|    |    |    |
| <input type="text"/>  | <input type="text"/>  | <input type="text"/>  |
|   |   |   |
| <input type="text"/>  | <input type="text"/>  | <input type="text"/>  |
|  |  |  |
| <input type="text"/>  | <input type="text"/>  | <input type="text"/>  |

3. Observa cada máquina y elige la máquina simple con la que corresponda.

|   |   |   |  |   |
|---|---|---|--|---|
|  |  |  |  |  |
| <input type="text"/>  | <input type="text"/>  | <input type="text"/>  | <input type="text"/>   | <input type="text"/>  |

4. Une con flechas:

|  |                   |
|--|-------------------|
| Sirven para transmitir movimiento  | PALANCA           |
| Sirven para subir y bajar cosas con menos esfuerzo                           | PLANO INCLINADO   |
| Sirven para mover objetos pesados y para extraer objetos que están encajados | POLEA             |
| Se usa para subir y bajar objetos deslizándolos sobre el suelo               | RUEDA O ENGRANAJE |

5. Escribe qué energía usa cada máquina.

