



## Colégio Estadual Presidente Castelo Branco

Rua Bento Gonçalves, 291, Centro, Lajeado/RS - CEP: 95900-174  
Telefone: (51)3748-2828 / Fax: (51)3710-1402

2º BIMESTRE – 1ª AVALIAÇÃO

PROFESSOR: JORGE DIAS

DISCIPLINA: CULTURAS E TECNOLOGIAS DIGITAIS

ALUNO(A):

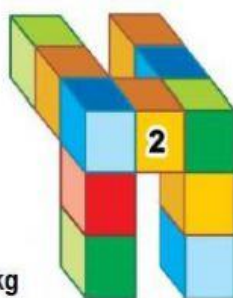
TURMA

### LÓGICA COM CUBOS

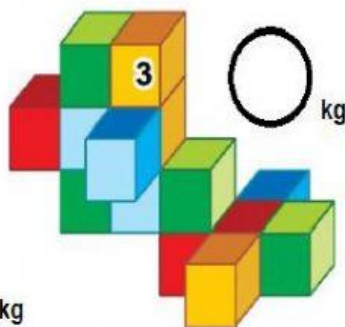
Cada um dos seguintes cubos pesa 1 kg. Quanto pesa cada peça? E qual pesa mais?



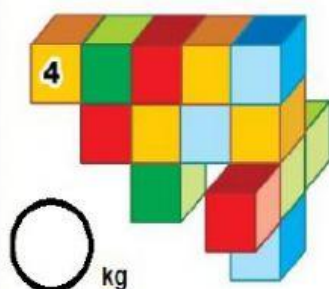
kg



kg



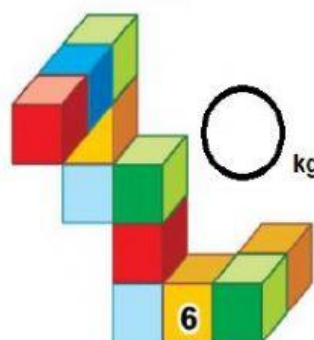
kg



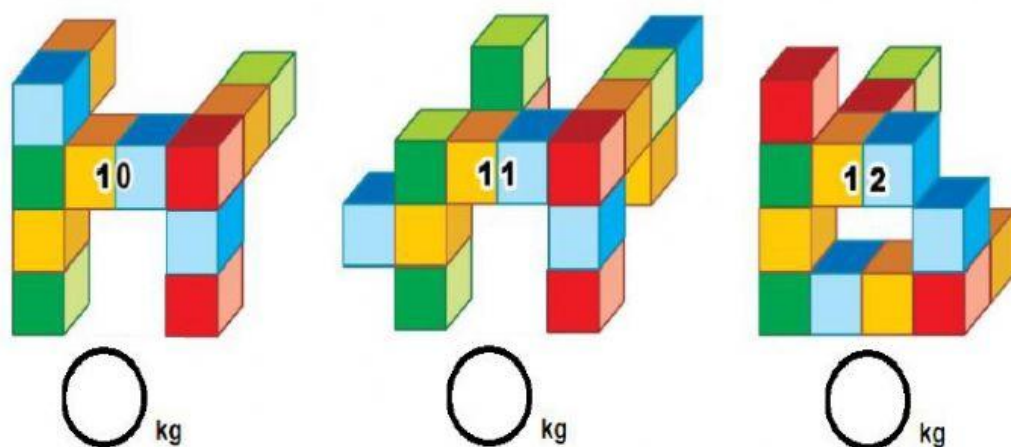
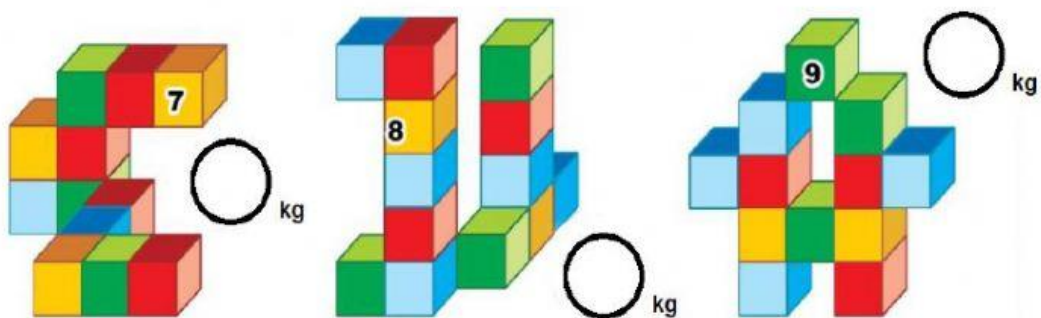
kg



kg



kg



A peça que pesa mais é a de número? E pesa quantos quilos.

=

kg

**BOA PROVA!!**