












## Kilos, medios kilos y cuartos de kilo

 =  +   
 =  +  +  + 

 =  + 

Pincha y arrastra como en el ejemplo



¿Cuántos medios kilos hay en 1 kilo?



¿Cuántos medios kilos hay en 2 kilos?

¿Cuántos medios kilos hay en 2 kilos?

¿Cuántos medios kilos hay en 3 kilos?

¿Cuántos medios kilos hay en 4 kilos?



¿Cuántos kilos hay en 2 medios kilos?

¿Cuántos kilos hay en 4 medios kilos?

¿Cuántos kilos hay en 6 medios kilos?

¿Cuántos kilos hay en 8 medios kilos?

Pincha y arrastra como en el ejemplo



¿Cuántos cuartos de kilo hay en 1 kilo?



¿Cuántos cuartos de kilo hay en 2 kilos?

¿Cuántos cuartos de kilo hay en 3 kilos?

¿Cuántos cuartos de kilo hay en 4 kilos?

