


## El Sistema Circulatorio

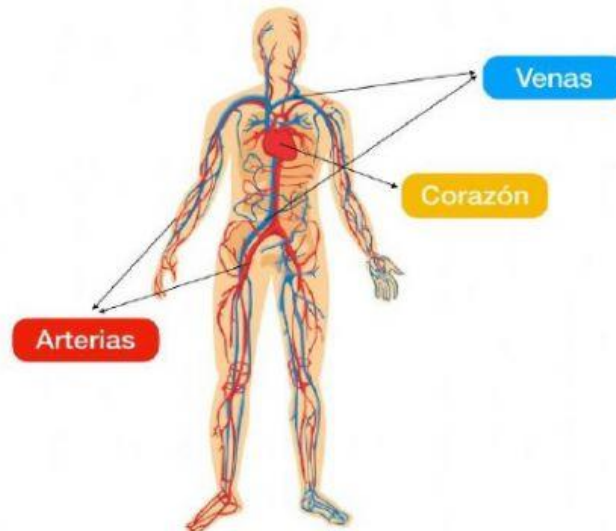
### Ciencia y Tecnología

Miércoles 8 de junio 2022

1. Escribe dentro de cada recuadro la palabra SI o NO según beneficien o perjudiquen a nuestro aparato circulatorio.



2. Con una línea, une las descripciones a la parte del sistema circulatorio que le corresponde.

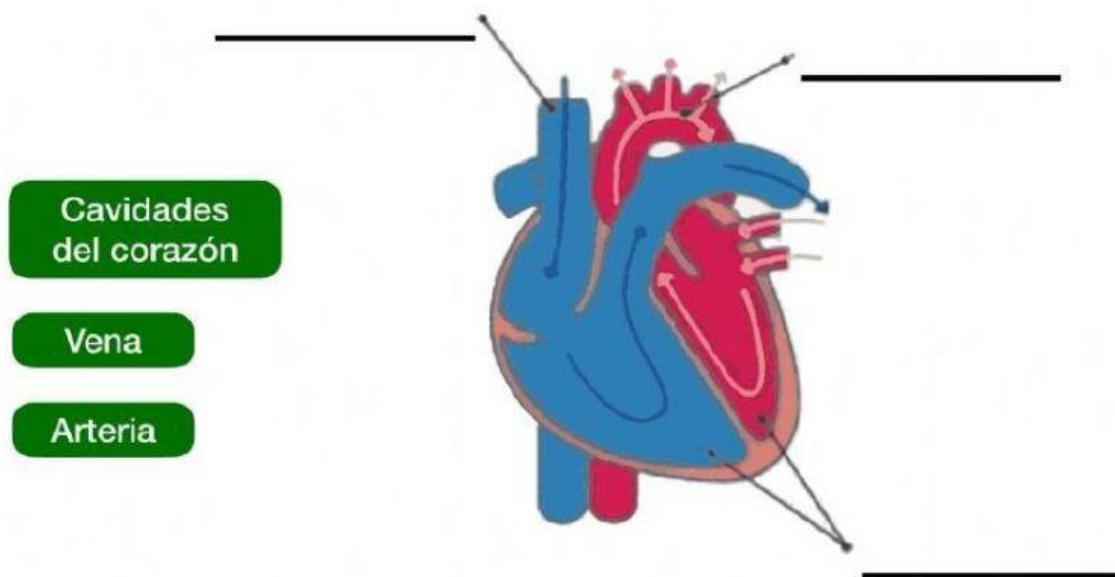


Se encarga de bombear la sangre para que llegue a todo el cuerpo.

Llevar la sangre del corazón al resto del cuerpo con las sustancias que éste requiere.

Llevar la sangre del cuerpo con algunas sustancias de desecho hacia el corazón.

3. Arrastra los nombres de las partes del corazón al lugar que les corresponde.



4. Encuentra las palabras en la sopa de letras.

- Transporta
- Circulación
- Oxígeno
- Células
- Corazón
- Nutrientes
- Elimina

q	c	w	n	e	r	e	t	o
a	i	y	u	i	s	l	o	x
t	r	p	t	s	a	i	d	i
r	c	f	r	h	l	m	k	g
o	u	g	i	x	u	i	z	e
p	l	j	e	h	l	n	m	n
s	a	v	n	c	e	a	q	o
n	c	ñ	t	f	c	d	s	a
a	i	p	e	k	c	y	o	w
r	o	t	s	z	i	b	z	r
t	n	c	o	r	a	z	o	n

