



PROBLEMAS MATEMÁTICOS (con llevada)



En un juego tengo 59 puntos y necesito llegar a los 76 para que me den vidas infinitas. ¿Cuántos puntos me faltan?

DATOS

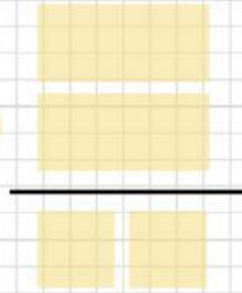
Puntos que tengo




Puntos que necesito



OPERACIÓN



SOLUCIÓN





@MINISABIOS @ROCIPTSEVILLA

Un balón de fútbol tiene 25 hexágonos y 16 pentágonos. ¿Cuántas figuras tiene en total?

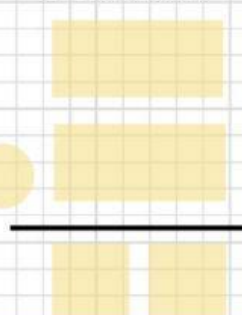
DATOS

El balón tiene:


-  hexágonos

-  pentágonos

OPERACIÓN



SOLUCIÓN



@MINISABIOS @ROCIPTSEVILLA