



COLEGIO HILL
CICLO ESCOLAR 2021 - 2022
EXAMEN PERIODO ABRIL -MAYO 2022
CUARTO GRADO

EXAMEN DE MATEMÁTICAS

Nombre: _____ Fecha: _____

Aciertos: _____ Calificación: _____

Instrucciones: realiza las siguientes operaciones:





| | | | | | | | | | | | | | | |
|---|---|----|---|---|--|--|---|---|---|----|---|---|---|--|
| | | | | | | | | | 7 | 6. | 2 | 5 | | |
| | 8 | 9. | 5 | 4 | | | - | | 2 | 6. | 8 | 6 | | |
| + | 9 | 7. | 6 | 9 | | | | | | | | | | |
| | | | | | | | | | | | | | | |
| | | | | | | | | | | | | | | |
| | | | | | | | | | | | | | | |
| | 8 | 8 | 2 | 7 | | | 7 | 8 | 8 | 7 | 9 | 9 | 7 | |
| x | | | 8 | 8 | | | | | | | | | | |
| | | | | | | | | | | | | | | |
| | | | | | | | | | | | | | | |
| | | | | | | | | | | | | | | |
| | | | | | | | | | | | | | | |
| | | | | | | | | | | | | | | |



COLEGIO HILL
CICLO ESCOLAR 2021 - 2022
EXAMEN PERIODO ABRIL -MAYO 2022
CUARTO GRADO

Instrucciones: observa la tabla y escribe dentro del cuadro que está en blanco la característica de cada cuadrilátero.

- Tiene dos pares de lados iguales.
- Tiene dos pares de lados iguales y cuatro ángulos rectos.
- Tiene 4 lados iguales y 4 ángulos rectos.
- Tiene los 4 lados iguales y dos pares de ángulos iguales.

| | | |
|------------|---|--|
| Cuadrado |  | |
| Rectángulo |  | |
| Rombo |  | |
| Romboide |  | |



COLEGIO HILL
CICLO ESCOLAR 2021 - 2022
EXAMEN PERIODO ABRIL -MAYO 2022
CUARTO GRADO

Instrucciones: resuelve las siguientes operaciones con fracciones.

$$2\frac{5}{6} + 1\frac{1}{3} =$$

$$4\frac{3}{4} + \frac{5}{8} =$$

$$\frac{7}{6} + 1\frac{5}{6} =$$

$$5\frac{3}{4} - 2\frac{5}{8} =$$

$$6\frac{1}{2} - 3\frac{1}{4} =$$



COLEGIO HILL
CICLO ESCOLAR 2021 - 2022
EXAMEN PERIODO ABRIL -MAYO 2022
CUARTO GRADO

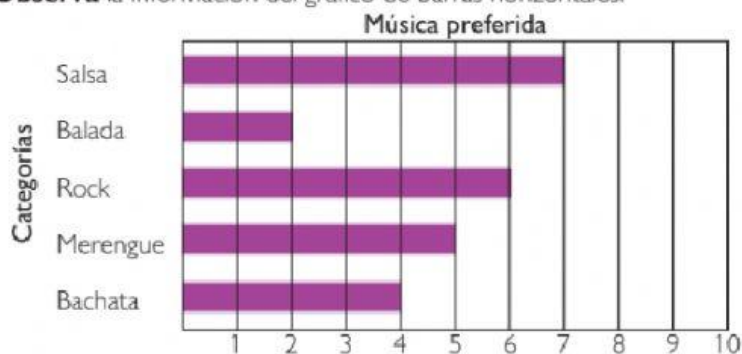
$$\frac{1}{2} + \frac{5}{4} =$$

$$\frac{9}{3} + \frac{3}{7} =$$

$$\frac{2}{8} + \frac{2}{7} =$$

Instrucciones: responde de acuerdo a lo observado en a gráfica de barras.

1. Observa la información del gráfico de barras horizontales.



■ Según los datos del gráfico, **completa** la siguiente información.

- Tipo de música menos preferida. _____
- Tipo de música de mayor preferencia. _____
- Número de personas entrevistadas. _____



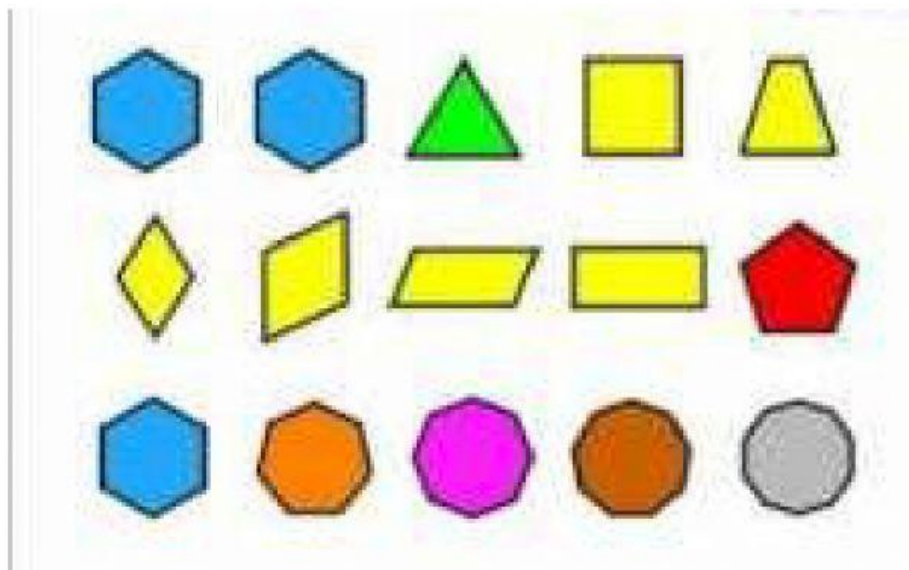
COLEGIO HILL
CICLO ESCOLAR 2021 - 2022
EXAMEN PERIODO ABRIL -MAYO 2022
CUARTO GRADO

Instrucciones: responde las preguntas de acuerdo a lo que presenta la imagen.

1.- ¿Qué fracción representan las figuras de color amarillo?

2.- ¿Qué fracción representan las figuras de color azul?

3.- ¿Qué fracción representa si sumas las figuras azules y amarillas?





COLEGIO HILL
CICLO ESCOLAR 2021 - 2022
EXAMEN PERIODO ABRIL -MAYO 2022
CUARTO GRADO

1.- En la cafetería que está en el centro de la ciudad, se venden todos los días 20 veces más, tazas de café, que en la cafetería que está en la calle donde viven mis abuelos. Sabiendo que la cafetería de la calle de mis abuelos se venden 185 tazas de café al día.

- ¿Cuántas tazas de café se venden cada día en la cafetería del centro?

Se venden _____ tazas

2.- Unos grandes almacenes de comida vendieron el miércoles 2300 kilos de comida en total, entre verduras, frutas, carne, pescado y panadería. Pero el sábado vendieron mucho menos, exactamente 2 veces menos comida que el miércoles.

- ¿Cuántos kilos de comida vendieron el sábado?

Vendieron _____ kilos de comida

3.- Si de lo que vendieron en los almacenes el miércoles, 550 kilos son de carne, 420 de pescado y 90 kilos de panadería y lo demás fue de frutas y verduras ¿Cuántos kilos de frutas y verduras vendieron?

- Vendieron _____ kilos de frutas y verduras.



COLEGIO HILL
CICLO ESCOLAR 2021 - 2022
EXAMEN PERIODO ABRIL -MAYO 2022
CUARTO GRADO