

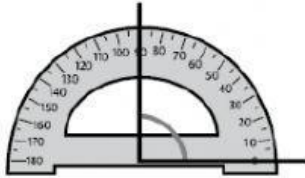


Transportador

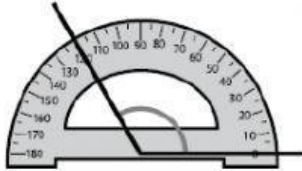
RECUERDA.

☺ La medida de un ángulo se expresa en grados y se mide con el transportador.

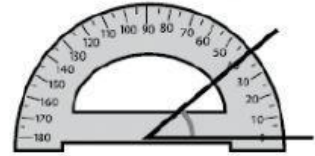
1. Escribe cuántos grados mide cada uno de los transportadores.



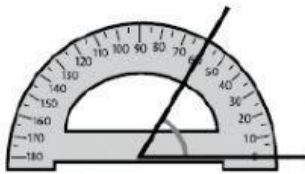
_____ grados



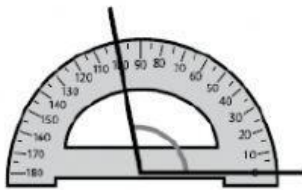
_____ grados




_____ grados



_____ grados



_____ grados



_____ grados

2. Coloca las siguientes medidas de los ángulos en su correspondiente.

50°

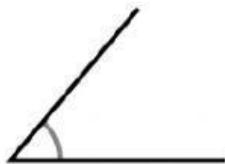
80°

110°

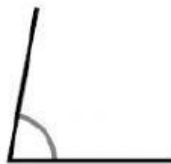
30°

90°

140°



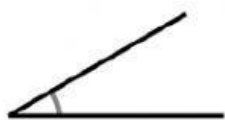
_____ grados



_____ grados



_____ grados



_____ grados



_____ grados



_____ grados