

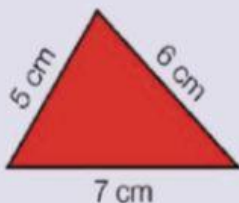
# Perímetro de un polígono



Juego perímetro



Video: perímetro



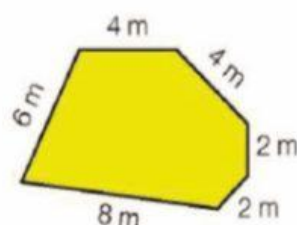
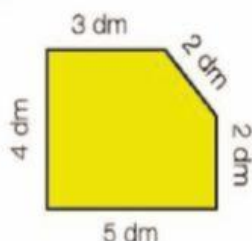
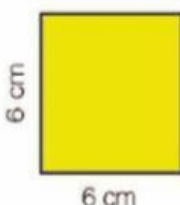
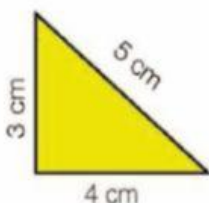
Para calcular el perímetro de este triángulo sumamos las longitudes de sus tres lados:

$$7 \text{ cm} + 5 \text{ cm} + 6 \text{ cm} = 18 \text{ cm}$$


El perímetro del triángulo es 18 cm.

El perímetro de un polígono es la suma de las longitudes de sus lados.

1 Calcula el perímetro de cada polígono.



2 Mide los lados de cada polígono y calcula su perímetro.



3 Resuelve.

- Marcos tiene una finca con forma de rectángulo cuyos lados miden 60 m y 25 m, y le ha puesto una valla alrededor. ¿Cuántos metros de valla ha utilizado?
- Virginia tiene 3 láminas cuadradas de 15 cm de lado. Quiere ponerles un marco de madera a todas. ¿Tendrá bastante con un listón de 200 cm de longitud? ¿Cuántos centímetros le faltan o sobran?

# EL PERÍMETRO

## Recuerda

El **perímetro** es la **suma** de lo que miden los lados de un polígono.

**Calculamos** el perímetro de un polígono **sumando** lo que mide cada lado.

1. Calcula el perímetro de estos polígonos.

