

ใบงาน
ชุดที่ 1

**BLOCKY
GAME**

ตอน
รามเกียรติ์

เรียนวิคิด
ผ่านวิคิด by coding
THAILAND

LIVEWORKSHEETS

ชื่อ

ชั้น

เลขที่



ใครเป็นใครในรามเกียรติ์?

ให้เพื่อนๆ พิจารณาภาพตัวละครจากมินิเกมรามเกียรติ์ แล้วเขียนชื่อตัวละครให้ตรงกับภาพ

| | | | |
|---------|------------|------------|---------|
| ทศกัณฐ์ | พระลักษมณ์ | นางสำนึกษา | นางสีดา |
| มารีศ | ฤาษี | พระราม | |















ชื่อ

ชั้น

เลขที่



แผนผังรู้เท่าเทียมเกียรติ (1)

ให้เพื่อนๆ พิจารณาภาพตัวละครจากมินิเกมรามเกียรติ์ แล้วลากเส้นเชื่อมโยงคุณลักษณะให้ตรงกับตัวละคร (ตัวละครอาจมีได้มากกว่า 1 ลักษณะ)



สามารถแปลงร่างเป็นฤาษีได้

ยิงธนูได้แม่นยำ

เป็นภรรยาพระราม

มี 20 แขน

มีร่างกายสีเหลือง

มี 10 หน้า

เป็นผู้ครองกรุงลงกา

สามารถแปลงกายเป็นกวางทองได้

เป็นลูกสมุนของทศกัณฐ์

เป็นน้องสาวของทศกัณฐ์

ชื่อ

ชั้น

เลขที่



เรื่องราวในมินิเกมรามเกียรติ์ (1)

ให้เพื่อนๆ ลากเส้นจับคู่เหตุการณ์ที่เกิดขึ้นในมินิเกมรามเกียรติ์ให้ตรงกับภาพ และเขียนลำดับเหตุการณ์เลข 1-5 ในวงกลมที่มุมภาพ



ทศกัณฐ์ พลังมือสังหารชีวหาผู้เป็นน้องเขย
ของตนโดยไม่ตั้งใจ นางสำมนักขาน้องสาว
ของทศกัณฐ์จึงกลายเป็นม่าย

4



นางสำมนักขาบอกแก่ทศกัณฐ์ ว่านางไปเจอ
ผู้หญิงคนหนึ่งที่สวยมาก ๆ ในป่าชื่อนางสีดา



นางสำมนักขาได้พบกับพระราม
และรู้สึกชอบใจ แต่พระรามปฏิเสธนาง
จึงเข้าไปทำร้ายนางสีดา แต่ก็ถูกพระลักษมณ์
ทำร้ายบาดเจ็บ



นางสำมนักขา นำความแค้นใจไปฟ้อง
พี่ชายทั้ง 3 คน แต่ก็พ่ายแพ้ให้พระราม
และพระลักษมณ์จนเสียชีวิตทั้ง 3 คน



ทศกัณฐ์ต้องการลักพาตัวนางสีดา
ด้วยความรอบคอบ จึงบังคับยักษ์มารีศ
ผู้เป็นญาติของตน ให้แปลงร่างเป็นกวางทอง

ชื่อ

ชั้น

เลขที่



พระรามตามกวาง

ให้เพื่อนๆ พิจารณาแผนภาพ แล้วเขียนลูกศรลงในช่องด้านล่างเพื่อพาพระรามไปหากวางทอง

| | | | | | | | |
|---|---|---|---|---|---|---|---|
| | A | B | C | D | E | F | G |
| 1 | | | | | | | |
| 2 | | | | | | | |
| 3 | | | | | | | |
| 4 | | | | | | | |
| 5 | | | | | | | |
| 6 | | | | | | | |
| 7 | | | | | | | |



| | | | | | | | | | |
|----------|----|----|----|----|----|----|----|----|----|
| เริ่มต้น | 1 | 2 | 3 | 4 | 5 | 6 | 7 | 8 | 9 |
| | 10 | 11 | 12 | 13 | 14 | 15 | 16 | 17 | 18 |

ชื่อ


ชั้น

เลขที่




คิดเลขกับนางสำนึกษา


ให้เพื่อนๆ คำนวณผลลัพธ์จากการเดินทางในแต่ละช่องของนางสำนึกษา

12  $+8$ \rightarrow $\boxed{20}$ $+23$ \rightarrow $\boxed{}$ $+3$ \rightarrow $\boxed{}$ $\div 2$ \rightarrow $\boxed{}$


$\downarrow -8$

$\boxed{}$ $+11$ \leftarrow $\boxed{}$ $+12$ \leftarrow $\boxed{}$ $+2$ \leftarrow $\boxed{}$ -4 \leftarrow  $\boxed{}$

$\downarrow \div 3$

$\boxed{}$ $+1$ \rightarrow  $\times 2$ \rightarrow $\boxed{}$ $+6$ \rightarrow $\boxed{}$ -19 \rightarrow $\boxed{}$


$\downarrow +5$

$\boxed{}$ -14 \leftarrow $\boxed{}$ $+7$ \leftarrow $\boxed{}$ $\div 2$ \leftarrow  -2 \leftarrow $\boxed{}$

$\downarrow +8$

$\boxed{}$ $+11$ \rightarrow $\boxed{}$ -17 \rightarrow $\boxed{}$ $+25$ \rightarrow $\boxed{}$ $+12$ \rightarrow $\boxed{}$

$\downarrow -7$

$\boxed{}$ $+10$ \leftarrow $\boxed{}$ $+1$ \leftarrow  $\times 2$ \leftarrow $\boxed{}$ $+8$ \leftarrow $\boxed{}$