





Si el lado de cada
cuadrado mide 1
unidad,
Calcula

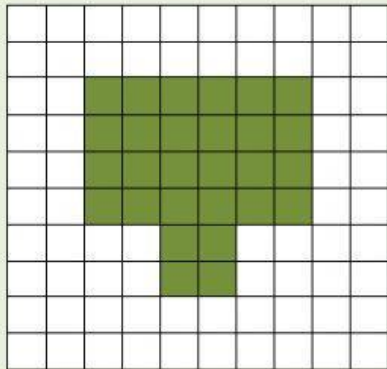


El **perímetro** mide unidades.

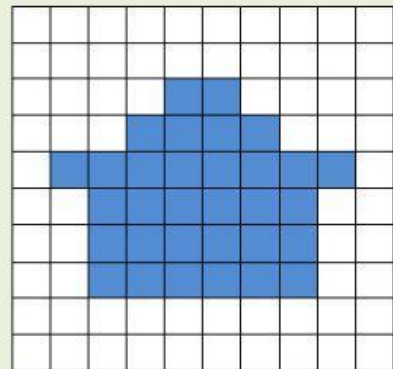


El **área** mide cuadrados.

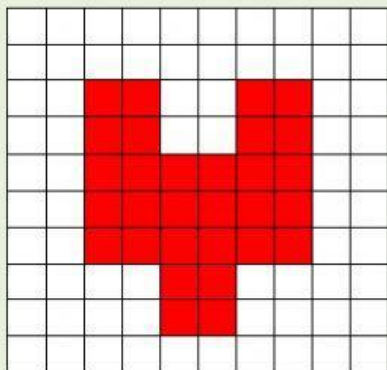
Calcula las áreas de estas figuras usando los cuadrados.



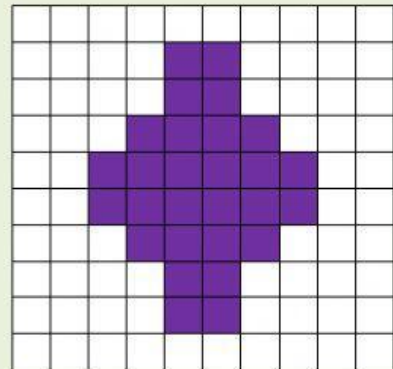
Mide cuadrados.



Mide cuadrados.



Mide cuadrados.



Mide cuadrados.

¿Qué dos figuras tienen el mismo área?

Señala sus colores:

