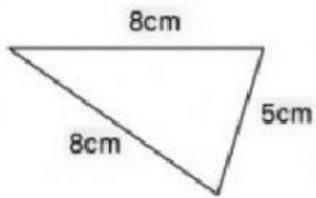


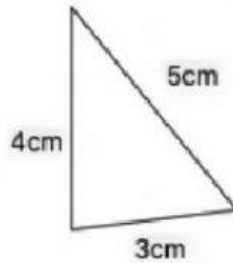
ESCRIBE EL NOMBRE DE LOS TRIÁNGULOS CON LOS 2 APELLIDOS
(cuidado podrás necesitar el transportador)

Calcula el perímetro



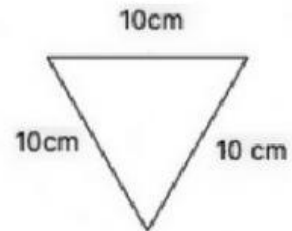
Perímetro =

triángulo



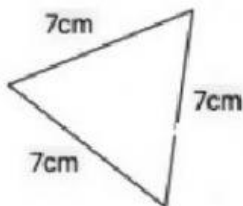
Perímetro =

triángulo



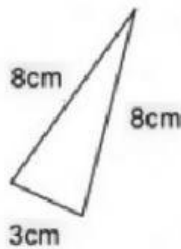
Perímetro =

triángulo



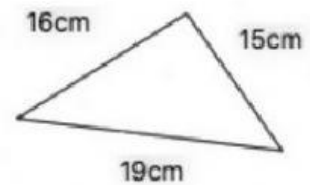
Perímetro =

triángulo



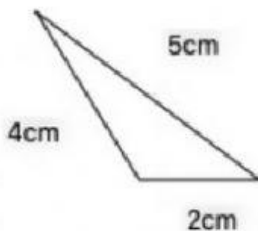
Perímetro =

triángulo



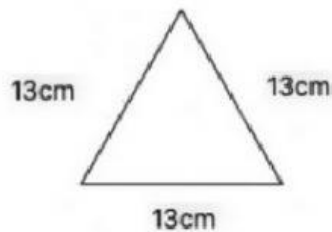
Perímetro =

triángulo



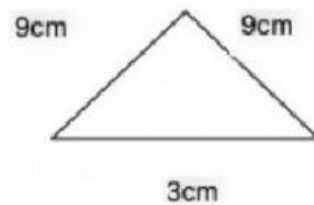
Perímetro =

triángulo



Perímetro =

triángulo



Perímetro =

triángulo
