


Nombre:

Número de Celular:

Ejercicio 1

Marca con aspa (x)

El pentágono



Ejercicio 2

Marca con una "X"

la flecha que apunta hacia arriba.



Ejercicio 3

Marca con una "X"
a la persona que está
en el segundo lugar en la fila.



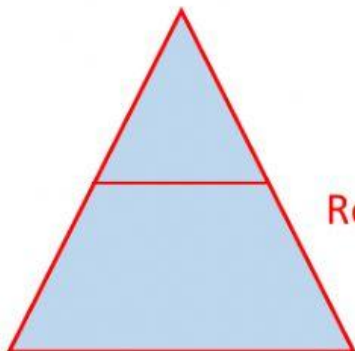
Ejercicio 4

Marca con una "X"
al que se encuentra más arriba



Ejercicio 5

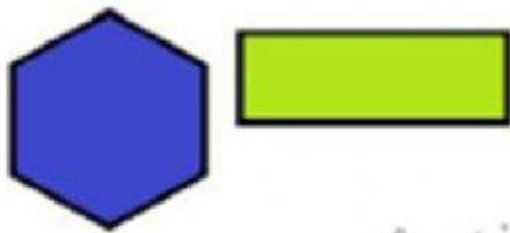

Cuenta todos los triángulos



Respuesta:

Ejercicio 6

Marca con una "X"
el triángulo de color rojo



Activ

Ejercicio 7

Marca con una "X"
la trenza derecha de la niña



Ejercicio 8

Ordena de menor a mayor los números.

2 ; 3 ; 1

--	--	--

Ejercicio 9

Cuántas unidades hay en una decena:

Respuesta:

Ejercicio 10

Marca con una "X"
la imagen que tiene más colores

