





N

AMA ; .....

TEMA 7

PPKn (KD 3.1)

- 1. Siswa laki-laki dan perempuan berolahraga bersama. Semua siswa harus bersikap ....
  - a. Jahil
  - b. Curang
  - c. Sportif
  - d. Tidak adil
- 2. Hubungkanlah nama agama dan tempat ibadahnya dengan benar!

AGAMA		TEMPAT IBADAH
Kristen	● ●	
Islam	● ●	
Konghucu	● ●	
Hindu	● ●	

- 3. Saat teman menolak ajakan bermain, kita harus .....

Bahasa Indonesia

- 4. Dongeng yang menceritakan kehidupan hewan adalah ....
  - a. legenda
  - b. mite
  - c. fable
  - d. cerita rakyat
- 5. Kata sapaan digunakan untuk ....
  - a. memerintah seseorang
  - b. menjuluki seseorang
  - c. menegur atau menyapa seseorang
  - d. menanyakan orang
- 6. Perhatikan teks dongeng berikut!

Momo Seekor Ulat.

Momo bersedih hati karena teman-temannya berubah menjadi kepompong. Bangun tidur, teman-teman Momo berubah menjadi kupu-kupu. Kupu-kupu itu sangat indah. Momo juga ingin menjadi kupu-kupu.

Tokoh pada teks dongeng tersebut adalah ...

- 7. Pasangkahlah kata di bawah dengan tepat!

- a. Alur ● ● 1. Tempat cerita
- b. Tokoh ● ● 2. Jalan cerita
- c. Watak ● ● 3. Sifat pemeran dalam cerita
- d. Latar ● ● 4. Pemeran dalam cerita

- 8. Contoh sifat tokoh yang jahat dalam cerita adalah....

- a. suka menolong.
- b. pembohong.
- c. Jujur
- d. tanggung jawab

Matematika

- 9. Ale memiliki satu buah apel. Buah apel dipotong dua bagian sama besar. Satu bagian apel dinyatakan dengan pecahan . . .

- a. setengah
- b. sepertiga
- c. seperempat
- d. seperlima

- 10. Perhatikan gambar berikut!



Pecahan yang menyatakan jumlah bangun warna merah adalah . . . .

- c.  $\frac{1}{2}$
- d.  $\frac{1}{3}$
- c.  $\frac{1}{4}$
- d.  $\frac{1}{5}$

- 11. Fatimah memotong pita menjadi 4 bagian sama panjang, Setiap potong adalah . . . . bagian.

**SBDP**

12. Lagu Cicak di Dinding dinyanyikan dengan tempo . . . .

- a. sangat lambat
- b. agak cepat
- c. sangat cepat
- d. cepat

13. Perhatikan gambar di bawah ini!



Gerak dasar yang dilakukan Made pada gambar tersebut adalah . . . .

- a. mengayunkan tangan
- b. melangkahkan kaki
- c. mendongakkan kepala
- d. menggerakkan badan

14. Pasangkanlah gerakan tarian kijang dengan benar!

Posisi tangan di kepala	●	An illustration of a Kijang dancer in traditional pink and blue attire, with her hands raised to her head.
Melompat ke kanan dan ke kiri	●	An illustration of a Kijang dancer in mid-air, performing a jump.
Menggerakkan tangan ke samping	●	An illustration of two Kijang dancers in traditional attire, with their arms extended horizontally to the sides.
Posisi kaki jongkok	●	An illustration of two Kijang dancers in traditional attire, in a squatting or jongkok position.

