

Clasificación de triángulos

- Según sean sus lados, los triángulos se clasifican en:

Equiláteros

3 lados iguales



Isósceles

2 lados iguales



Escalenos

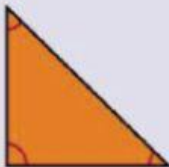
3 lados desiguales



- Según sean sus ángulos, los triángulos se clasifican en:

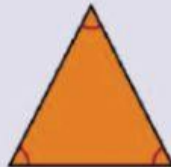
Rectángulos

1 ángulo recto



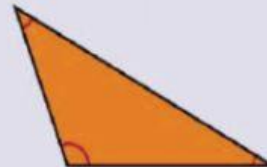
Acutángulos

3 ángulos agudos



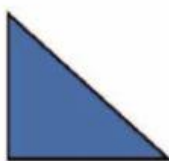
Obtusángulos

1 ángulo obtuso



- Según sean sus lados, los triángulos pueden ser equiláteros, isósceles y escalenos.
- Según sean sus ángulos, los triángulos pueden ser rectángulos, acutángulos y obtusángulos.

- Mide los lados de cada triángulo y escribe *equilátero*, *isósceles* o *escaleno*.



EJEMPLO El triángulo azul es ...

- Calca los triángulos en tu cuaderno y colorea los ángulos según la clave. Después, escribe si es un triángulo rectángulo, acutángulo u obtusángulo.

Rectos

Agudos

Obtusos

