

Nombre: _____

SERIE I



Instrucciones: une con una línea el número natural y maya que tengan el mismo valor.

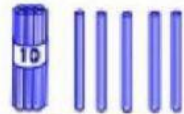

| | |
|----|-----------|
| 8 | ••• |
| 5 | ••• — |
| 9 | — |
| 3 | •• — |
| 10 | •••• — |
| 7 | == |

SERIE II



Instrucciones: cuenta los siguientes objetos y coloca el número maya donde corresponda.



¿Cuántos hay? Escribo el número maya.



a)  



b)  


¿Cuántos hay? Escribo el número maya.

a)  

b)  

c)  

d)  



SERIE III

Instrucciones: selecciona la respuesta correcta de los siguientes enunciados.

1. Huehuetenango significa: _____
2. Cuántos municipios tiene Huehuetenango: _____
3. El actual alcalde de Huehuetenango es: _____

SERIE IV

Instrucciones: coloca la estrella en el departamento de Huehuetenango.

