

Nombre: _____

Grado: Tercero "A"

Profesor: Adriana Alvarado T.

Fecha: _____

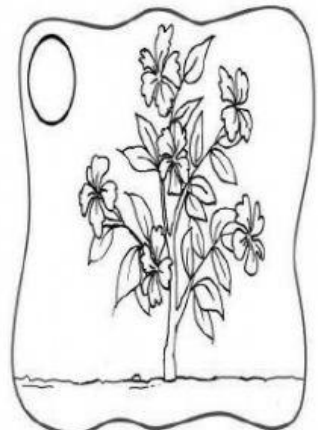

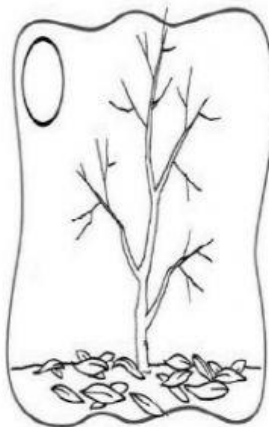
LECCIÓN #1
CIENCIAS NATURALES

1. Completa el texto.

Las plantas son _____.

Nacen, _____, se _____, y _____.

2. ESCRIBE LOS NUMERALES DEL 1 AL 4 SEGÚN LAS ETAPAS DEL CICLO VITAL DE LAS PLANTAS, LUEGO COLOREA.



3. ESCRIBE LO QUE NECESITAN LAS PLANTAS PARA VIVIR.

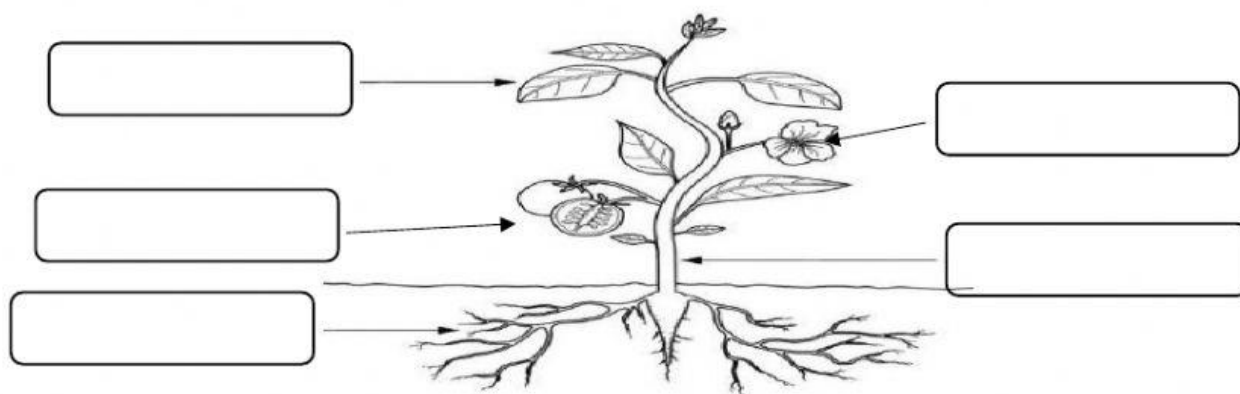
agua - aire - luz del sol - tierra



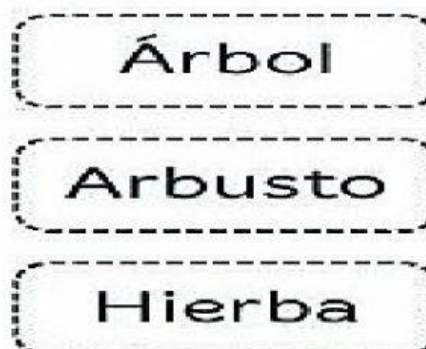
4. LEE Y ESCRIBE LA V SI ES VERADERO O LA F SI ES FALSO.

- a) Las plantas se desplazan. ()
- b) La planta se divide en 5 partes. ()
- c) Las plantas pertenecen al reino animal. ()

5. ESCRIBE LOS NOMBRES DE LAS PARTES DE LA PLANTA.



6. UNE CON LÍNEAS CADA PLANTA CON SU TIPO.



7. CONTESTA:

¿Las plantas de altura superior a los 5 metros son?

¿Las plantas con altura menor a un metro son?

¿Las plantas cuya ramificación comienza a nivel de la tierra son?

¿Cuáles son las plantas que tienen su tallo fino y delgado?

¿Cómo se le llama al tallo de los árboles?

8. UNE MEDIANTE LÍNEAS EL TIPO DE PLANTA CON SU USO.

ALIMENTICIA

CANELA



MEDICINAL



FORESTAL



INDUSTRIAL



ORNAMENTAL



9. MARCA LAS VIÑETAS QUE MUESTREN UN BUEN HÁBITO DE RESPETO Y CUIDADO HACIA LAS PLANTAS.



