

ÔN TẬP CUỐI KÌ II

Khoanh tròn vào chữ đặt trước câu trả lời đúng nhất từ câu 1 đến câu 6.

1. Số "sáu mươi lăm" được viết là:

A. 60

B. 65

C. 05

2. Số tròn chục liền sau của số 50 là :

A. 96

B. 17

C. 60

3. Đọc là tờ lịch ngày hôm nay.

A. Thứ sáu, ngày 11

B. Thứ ba, ngày 11

C. Thứ tư, ngày 11

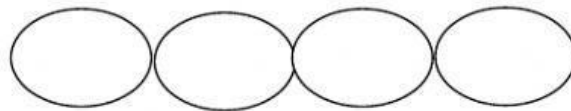


4. Viết số thích hợp vào chỗ trống :

Số 77 gồm : chục và đơn vị.

Số gồm 2 chục và 5 đơn vị là

5. Viết các số : 79, 81, 18 , 54 theo thứ tự từ lớn đến bé:



6. Đặt tính rồi tính:

$35 + 24$

$76 - 6$

$51 + 47$

$90 + 9$

.....
.....
.....

7. Điền > , < , = :

$54 \dots\dots\dots 63$

$30 + 5 \dots\dots\dots 30 + 7$

$99 \dots\dots\dots 100$

$63 - 3 \dots\dots\dots 72 - 12$

$82 \dots\dots\dots 75$

$45 + 3 \dots\dots\dots 45 - 3$

8. Nói phép tính với kết quả đúng.

$22 + 5$

$38 - 4$

$40 + 5 - 5$

$24 + 2 + 10$



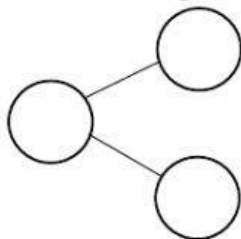
9. Hoàn thành sơ đồ, viết phép tính và trả lời câu hỏi theo bài toán.



Thứ, ngày, lúc giờ Mai đang học đàn piano.

10. Hoàn thành sơ đồ, viết phép tính và trả lời câu hỏi theo bài toán.

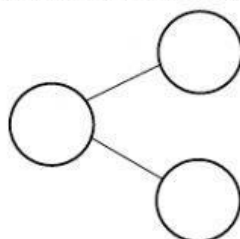
a. Bài toán: Vườn nhà Hà trồng 24 cây cam và 12 cây bưởi. Hỏi nhà Hà trồng tất cả bao nhiêu cây?



--	--	--	--	--

Trả lời : Nhà An có tất cả cây.

b. Bài toán: An có 38 viên bi, An cho Bình 15 viên bi. Hỏi An còn lại bao nhiêu viên bi?



--	--	--	--	--

Trả lời :

