



Lembar Kerja Peserta Didik  
LKPD

*Sub Tema 3*

*Usaha Pelestarian lingkungan*






Nama:

Kelas : V (Lima)

No Absen :

# LINGKUNGAN SEKITAR KITA

Berilah tanda ceklis pada lingkungan yang bersih dan tanda silang pada lingkungan yang kotor.







## Pilihlah Jawaban Di Bawah Ini Dengan Benar

1. Salah satu usaha yang dilakukan untuk menjaga kelestarian hutan dalam jangka waktu panjang adalah....
  - a. Terasesering
  - b. Daur ulang
  - c. Reboisasi
  - d. Tebang pilih
2. Prinsip memakai ulang biasanya digunakan untuk sumber daya alam....
  - a. Dapat diperbarui
  - b. Yang terdapat di lingkungan kita
  - c. Dapat langsung diperoleh
  - d. Tidak dapat langsung diperoleh
3. Bentuk pelestarian hayati yang dilakukan dalam habitat aslinya disebut pelestarian....
  - a. In situ
  - b. Tumbuhan
  - c. Flora
  - d. Eks situ
4. Suatu tempat perlindungan terhadap hewan-hewan yang terancam punah akibat perburuan yang tidak terkendali adalah....
  - a. Hutan wisata
  - b. Hutan lindung
  - c. Suaka margasatwa
  - d. Hutan berburu
5. Hewan dan tumbuhan dapat dilestarikan dengan cara....
  - a. Diambil secara maksimal
  - b. Dijual secara bebas
  - c. Dibiarkan
  - d. Dibudidayakan





## Hubungkan dengan Jawaban Yang Dianggap Benar



SUAKAMARGASATWA



HUTAN LINDUNG



CAGAR ALAM



TAMAN NASIONAL



TAMAN LAUT

