

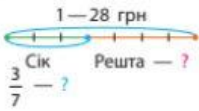


4 Обчисли та запиши результати:


- 1) кількість метрів: у $\frac{3}{4}$ км ; у $\frac{2}{5}$ км ; у $\frac{10}{25}$ км ;
 2) кількість кілограмів: у $\frac{3}{4}$ ц ; у $\frac{3}{4}$ т ; у $\frac{30}{50}$ т ;
 3) ціле, якщо його $\frac{5}{12}$ становлять 6 дм .

5 Розв'яжи задачі. Зістав задачі 1 і 2. У чому відмінність? Як вона вплинула на розв'язування?

- 1) В Оленки було 28 грн. На сік вона витратила $\frac{3}{7}$ грошей, що в неї були. Скільки коштував сік? Скільки грошей залишилось у дівчинки?




Було —
 Витр. — ?, від
 Залишилось — ?



- 2) В Оленки було 28 грн. Мама дала ще $\frac{3}{7}$ тієї суми, що була в дівчинки. Скільки грошей дала Оленці мама? Скільки грошей стало в Оленки?



Було —
 Дала — ?, від
 Стало — ?


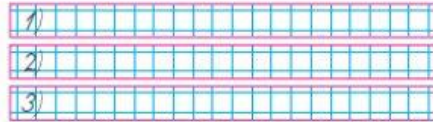


6 Зістав попарно задачі 1 і 2 із задачами 1 і 2, поданими в завданні 5. У чому відмінність? Як ця відмінність вплине на розв'язання? Запиши розв'язання поданих нижче задач, користуючись підказками.

- 1) В Оленки було 28 грн. Вона витратила на сік $\frac{3}{7}$ усіх грошей, а на булочку — $\frac{1}{4}$ усіх грошей. Скільки грошей залишилося в Оленки?
 ➤ 2) В Оленки було 28 грн. Мама дала ще $\frac{3}{7}$ суми, що була в дівчинки, а тато — $\frac{1}{4}$. Скільки грошей стало в Оленки?

Було —
 Витр. — ?, від і від
 Залишилось — ?

Було —
 Дали — ?, від і від
 Стало — ?



7 У Богдана вдома мешкають кілька кішок і папуг. Скільки кішок і скільки папуг мешкають у Богдана, якщо разом тварини мають 5 голів і 16 лап?

8 Виконай арифметичні дії.

152 19 102:17 48:12 112:16+14:14 4