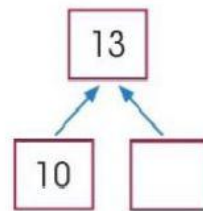
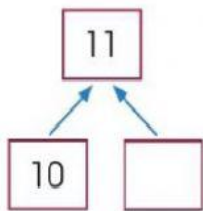
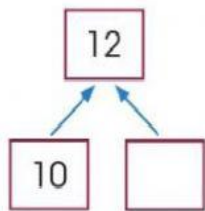
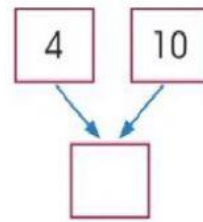
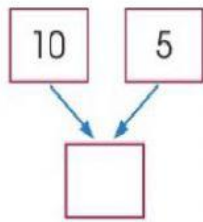
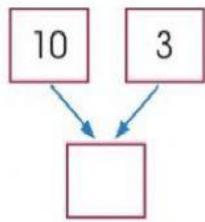


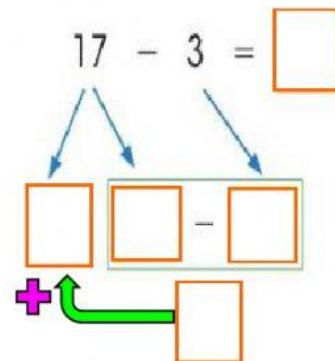
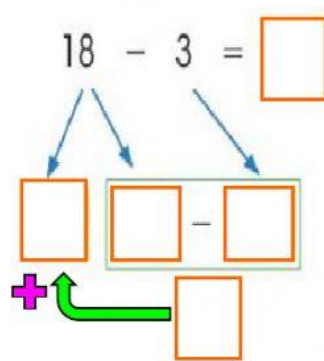
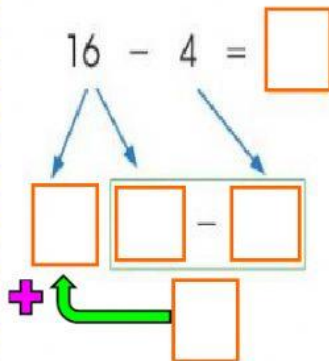
Operaciones combinadas

1- Escribe el número que falta en algunos espacios.



2- Resuelve las siguientes restas utilizando el diagrama.

El 10 quedará afuera del rectángulo verde.



3- Resuelve las siguientes restas utilizando el diagrama.

El 10 quedará dentro del rectángulo verde.

