

Matemáticas

PROYECTO: "MEDIMOS"

METRO, CENTÍMETRO, KILÓMETRO

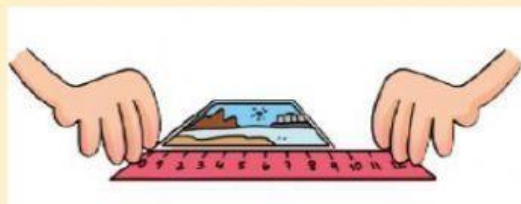
El METRO es la unidad principal que usamos para medir longitudes.

Se representa con una **m**



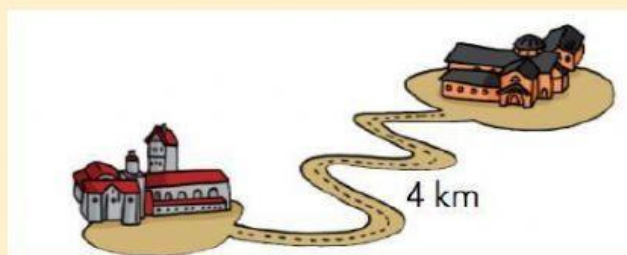
Para longitudes pequeñas se usa el CENTÍMETRO.

Se representa como **cm**

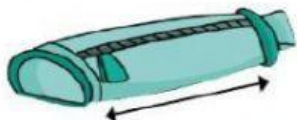


Para distancias largas se usa el KILÓMETRO.

Se representa como **km**



1) Marca la unidad de medida más adecuada en cada caso.



m cm km



m cm km



m cm km

2) ¿Cuánto miden estas longitudes? Elige y marca.



- ☐ 15 m
- ☐ 15 cm
- ☐ 15 km



- ☐ 2 m
- ☐ 2 cm
- ☐ 2 km

3) Ordena estas medidas de menor a mayor.

32 cm

32 m

32 km

3 cm

○ ○ ○