



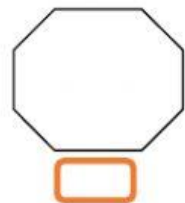
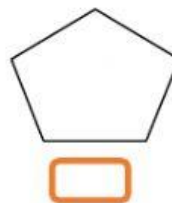

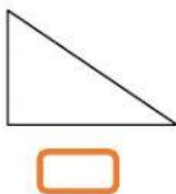
Los polígonos

1- Selecciona SOLO las figuras que sean polígonos:



2- ¿Cuántas diagonales se pueden dibujar en cada uno de estos polígonos?

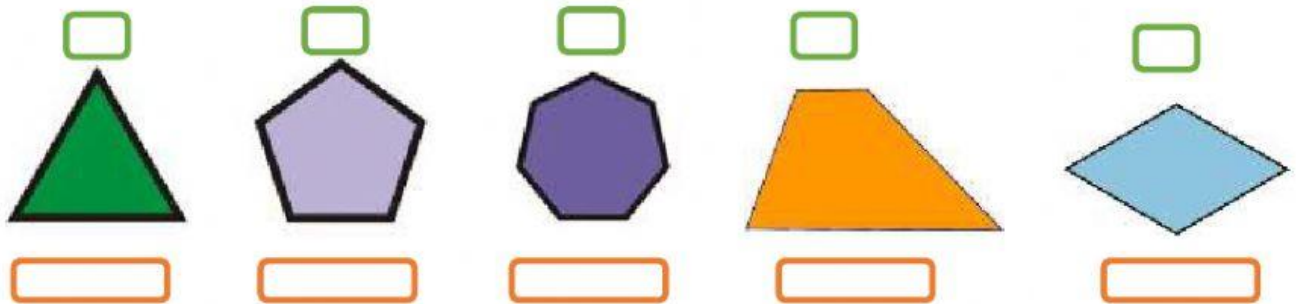
Escríbelo con números, no con letras.



3- Completa la tabla con números, no con letras.

	Nº de lados	Nº de ángulos	Nº de vértices	Nº de diagonales
Pentágono				
Heptágono				
Triángulo				
Octógono				
Cuadrilátero				

4- Selecciona aquellos polígonos que sean REGULARES, y escribe debajo de cada uno, cómo se llaman.



5- Calcula el perímetro de estos polígonos. Escribe la respuesta acompañada de las medidas y en números, por ejemplo: 34 cm, si no, reconocerá como errónea la respuesta. Siempre tiene que ir acompañada de la unidad en la que se esté midiendo.

