


| | | |
|--|--|--------------------------------------|
|  SANTA MARÍA DEL PILAR Zaragoza | 3º Primaria Matemáticas | Unidad 11 Conceptos |
|--|--|--------------------------------------|

Números de cinco cifras

1. Completa la tabla según su valor de posición de cada número.

| | DM | UM | C | D | U |
|--------|----|----|---|---|---|
| 810 | 0 | 0 | 8 | 0 | 0 |
| 4.232 | | | | | |
| 27.104 | | | | | |
| 72.140 | | | | | |

2. Escribe el anterior y el posterior:

| | | |
|--|--------|--|
| | 24.386 | |
| | 96.154 | |
| | 17.165 | |
| | 69.590 | |
| | 22.298 | |

3. Coloca el signo correspondiente: menor que (<) igual que (=) mayor que (>):

| | | |
|-------|--|-------|
| 5.394 | | 4.807 |
| 5.588 | | 5.704 |
| 4.319 | | 5.911 |
| 7.309 | | 7.789 |
| 9.502 | | 5.592 |


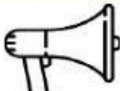

4. Descompón

| número | según posición | según valor |
|--------|----------------------------|----------------------------|
| 92.305 | | $90.000 + 2.000 + 300 + 5$ |
| | $8DM + 4UM + 5C + 1D + 4U$ | |
| 35.382 | | |
| | | $50.000 + 9.000 + 60 + 5$ |

5. ¿En qué número de la tabla anterior la cifra 5 tiene el mayor valor?

6. ¿Qué valor tiene?

7. Escribe con números.

| número | |
|---|--|
|  | |
|  | |
|  | |

8. Escribe con letras.

| número | |
|---|--|
|  | |