

Simulado de Matemática

Escola: \_\_\_\_\_ - 3º Ano

Prof. \_\_\_\_\_

Nome: \_\_\_\_\_

### H1 QUESTÃO 01

(SEAPE). Observe abaixo as flores do jardim de Ana.

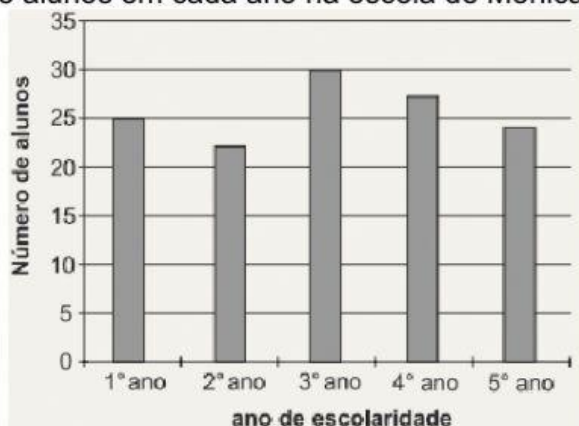


Quantas flores há nesse jardim?

- ☐ 18 flores.
- ☐ 27 flores.
- ☐ 32 flores.
- ☐ 33 flores.

### H18 QUESTÃO 02

(SEAPE). O gráfico abaixo mostra o número de alunos em cada ano na escola de Mônica.



Nessa escola, a turma que tem mais alunos é a do

- ☐ 1º ano. ☐ 3º ano.
- ☐ 2º ano. ☐ 4º ano.

### H15 QUESTÃO 03

(SEAPE). O relógio abaixo indica o horário em que o treino de futebol de Adriano começou.



Qual é o horário de início do treino de futebol de Adriano?

- ☐ 9 horas. ☐ 12 horas.
- ☐ 9 horas e 12 minutos. ☐ 12 horas e 45 minutos.

### H5 QUESTÃO 04

(SEAPE). Observe o número da placa do carro desenhado abaixo.



Qual é o valor posicional do algarismo 1 no número da placa desse carro?

- ☐ 1 ☐ 19
- ☐ 10 ☐ 21

### H QUESTÃO 05

(SEAPE). Observe a numeração do ônibus abaixo.

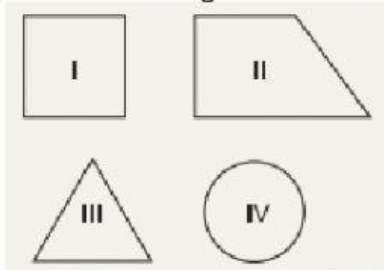


Qual é o número desse ônibus escrito por extenso?

- ☐ Seiscentos e vinte e oito.
- ☐ Seiscentos e sessenta e dois.
- ☐ Oitocentos e vinte e seis.
- ☐ Oitocentos e sessenta e dois.

**H11** **QUESTÃO 06**


(SEAPE). Observe as figuras abaixo.



O triângulo é a figura

**H8** **QUESTÃO 07**

(SEAPE). Observe a operação que Luiza resolveu.



Qual é o resultado dessa operação?

- |                             |                             |
|-----------------------------|-----------------------------|
| <input type="checkbox"/> 58 | <input type="checkbox"/> 76 |
| <input type="checkbox"/> 67 | <input type="checkbox"/> 85 |

**H6** **QUESTÃO 08**

(SEAPE). Pedro e Roberto colecionam bonecos. Pedro tem 26 bonecos e Roberto tem 12. Quantos bonecos Pedro tem a mais que Roberto?

- |                             |                             |
|-----------------------------|-----------------------------|
| <input type="checkbox"/> 14 | <input type="checkbox"/> 26 |
| <input type="checkbox"/> 15 | <input type="checkbox"/> 38 |

**H15** **QUESTÃO 09**

(SEAPE). A avó de Marina vai visitá-la daqui a 2 semanas.

Quantos dias, no total, Marina terá que esperar pela chegada de sua avó?

- |                            |                             |
|----------------------------|-----------------------------|
| <input type="checkbox"/> 2 | <input type="checkbox"/> 10 |
| <input type="checkbox"/> 7 | <input type="checkbox"/> 14 |

**H5** **QUESTÃO 10**

(SEAPE). Veja o número abaixo.

**132**

Esse número pode ser decomposto na forma

- |                                   |                                       |
|-----------------------------------|---------------------------------------|
| <input type="checkbox"/> 100 + 2  | <input type="checkbox"/> 100 + 20 + 3 |
| <input type="checkbox"/> 100 + 30 | <input type="checkbox"/> 100 + 30 + 2 |

**H14** **QUESTÃO 11**

(SEAPE). Veja abaixo a representação do dinheiro que Ricardo tinha.



Ele trocou todo esse dinheiro por uma única nota.

Qual foi a nota que Ricardo recebeu nessa troca?

