





Calcula en el orden que te marcan las flechas:


90 + ⁷ + ⁶ + ³ + ⁸

 ⁸ + ² + ⁵ +  + ²

³ + + ⁹ +  + ⁴ + ⁵

⁶ + + ¹ + + ⁷ + ¹ + ⁴

⁷ + +  + ⁶ + ⁹ + ¹

⁹ + + ⁵ + + ³ +  + ⁷ + ⁹

¹ + + ² + + ⁸ + + ³ + + ⁶ + ⁷

⁴ + + ⁵ + + ² + + ⁸ + + ³ + + ⁶