






# 1. TRABAJO EN EQUIPO: CADA MIEMBRO DEL EQUIPO CALCULA UNA CANTIDAD

● EXPRESA EN CENTILITROS LA CANTIDAD DE LÍQUIDO QUE HAY EN CADA RECIPIENTE

				
2 l y 4 dl	9 dl y 8 cl	4 l y 7 cl	12 l y 45 dl	1,5 l
<input type="text"/>	<input type="text"/>	<input type="text"/>	<input type="text"/>	<input type="text"/>

## 2. SEÑALA CUÁL TIENE MÁS CANTIDAD

JARRA      BOTELLA      GARRAFA      BIDÓN      CLIPPER

## 3. ¿CUÁL DE LOS COCHES ROBLOX TIENE MÁS GASOLINA EN LITROS?

				
50 dl l	400 cl	6.000 ml	900 cl	80 dl
<input type="text"/>	<input type="text"/>	<input type="text"/>	<input type="text"/>	<input type="text"/>

## 4. SEÑALA CUÁL TIENE MÁS GASOLINA

VERDE      POLICÍA      BLANCO      NARANJA      AZUL