

# ENIGMES.

				72
				82
				90
56	61	70	57	

 =

 =

 =

				69
				38
				39
52	36	37	21	

 =

 =

 =





		3		→	34
9		2		→	34
16	10	12		→	42
7			13	→	26
↓	↓	↓	↓	↓	
38	44	18	36		46





Observa les balances i calcula el pes de cada animal.

160 kg



			
<input type="text"/> kg	<input type="text"/> kg	<input type="text"/> kg	<input type="text"/> kg

	<input type="text" value="25,15€"/>		Tinc
	<input type="text" value="20,66€"/>		70 €
	<input type="text" value="2,56€"/>		Em sobren <input type="text"/> €

	<input type="text" value="10€"/>		Tinc
	<input type="text" value="22,77€"/>		80 €
	<input type="text" value="6,70€"/>		Em sobren <input type="text"/> €