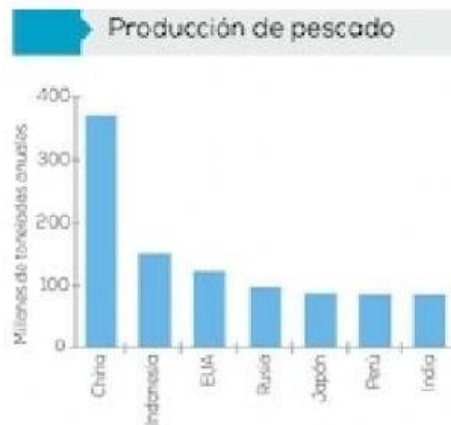
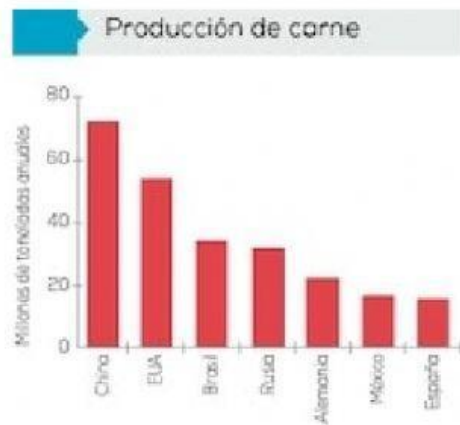
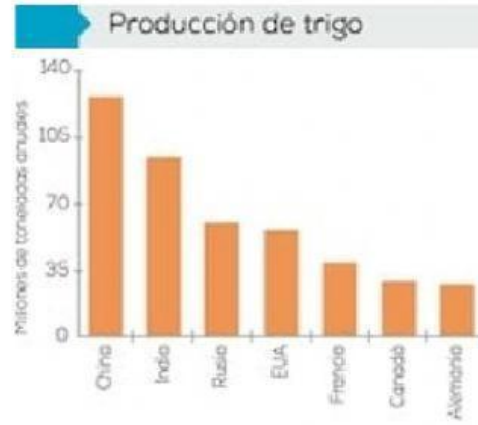


# GEOGRAFÍA

## REPASO DE EXAMEN DE ABRIL DE 2022

Observa las gráficas de producción.



Completa la tabla moviendo los datos según corresponda:

Insumos	Producción	Países productores
Maíz		
Arroz		
Trigo		
Carne		
Pescado		

China, EUA, Brasil, Rusia,  
Alemania, México, España

Jamón, salchichas, tocino,  
chorizo, paté

China, India, Rusia, EUA, Francia,  
Canadá, Alemania

China, Indonesia, EUA, Rusia, Japón,  
Perú, India

Carne, aceite, harina, caviar

China, India, Indonesia, Bangladesh,  
Vietnam, Tailandia, Myanmar

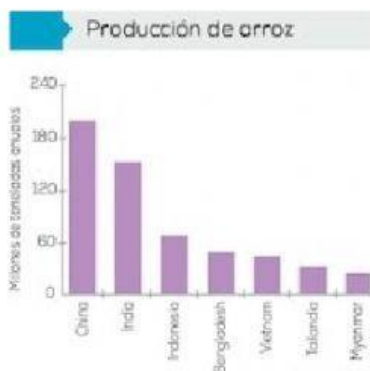
EUA, China, Brasil, Argentina y Ucrania

Harina, cereal, cerveza, pan

Harina, cereal, pastas, papel, aceite,  
vino, vinagre

Harina, miel, cereal, palomitas

**Revisa los datos de todas las gráficas y responde cada premisa escribiendo sobre la línea:**



¿Cuál es el primer país de América productor de cereales?

---

¿Qué cereal produce mayormente México?

---

¿Cómo se llama el continente con mayor producción pesquera?

---

¿Cuál es el nombre del país que aparece en todas las gráficas con mayor producción?

---

**Selecciona la materia prima con la que se elaborarán los productos en cada imagen.**



**Relaciona el origen de los alimentos con el sistema que lo genera:**

Alimentos de origen  
agrícola

Sistemas para detectar  
bancos de peces, barcos  
procesadores de pescado,  
redes de arrastre, refrigeradores

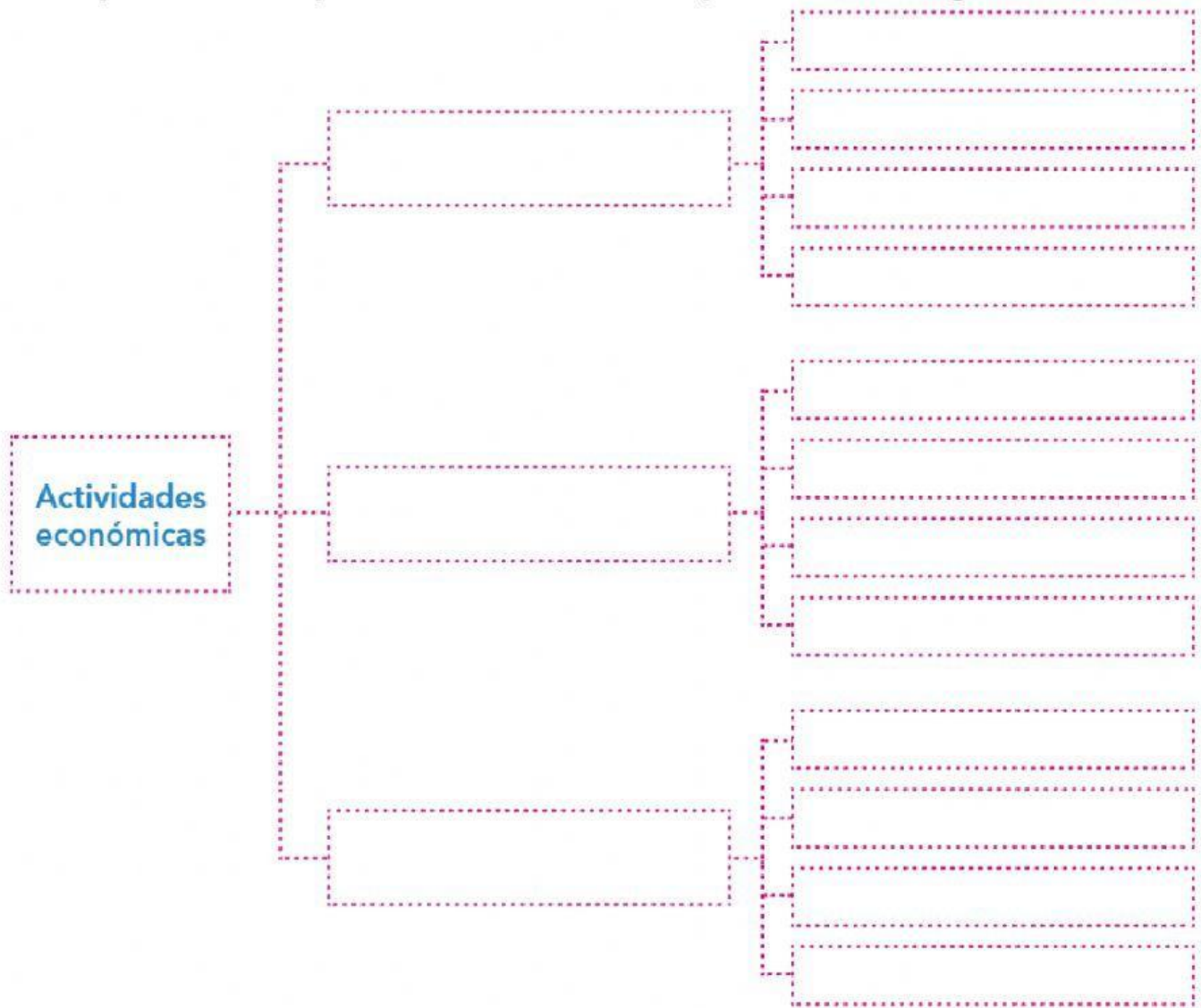
Alimentos de origen  
ganadero

Invernaderos, abonos,  
maquinaria, sistemas  
de riego, semillas  
genéticamente mejoradas

Alimentos de origen  
pesquero

Alimentos mejorados,  
corrales, establos, cámaras  
de refrigeración

Completa el esquema moviendo la palabra al lugar correcto



**Terciarias**

turismo

pesca

transporte

**Primarias**

ganadería

minería

explotación  
forestal

**Secundarias**

industria

educación

construcción

comercio

agricultura

explotación  
energética



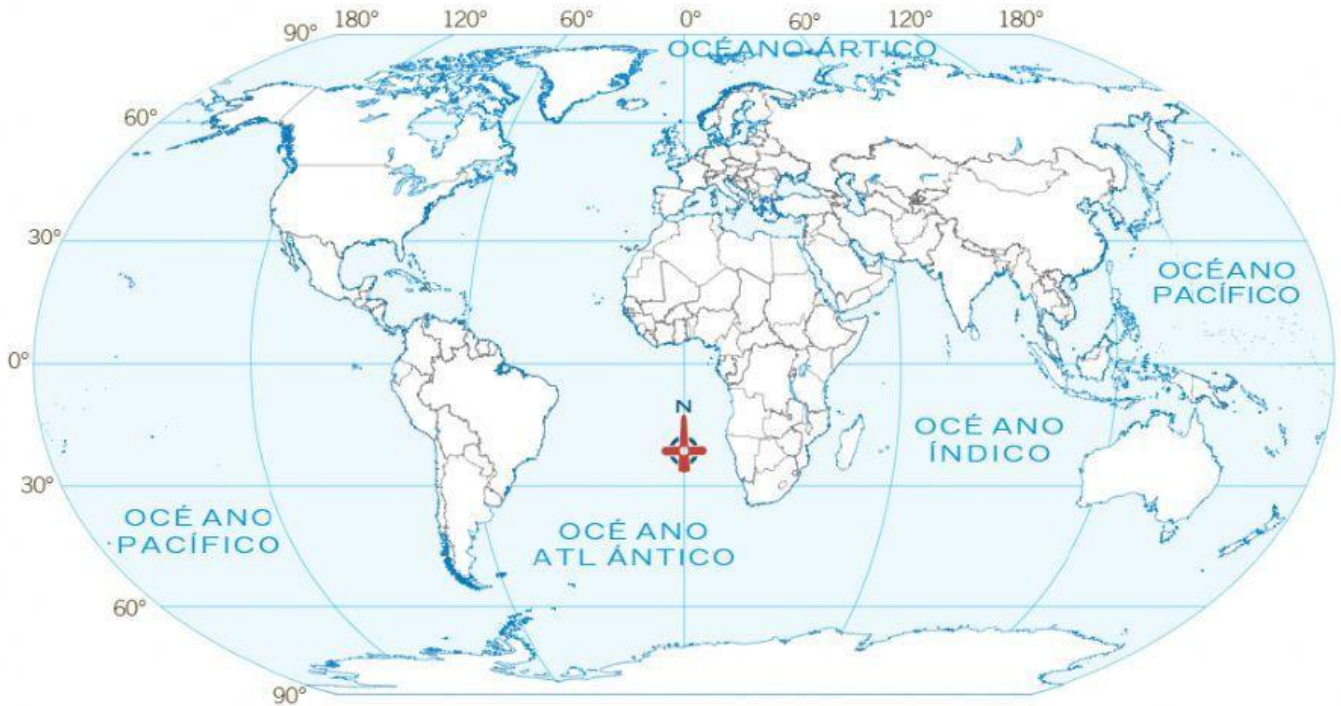
**Selecciona el producto elaborado a partir de la materia prima especificada:**

Actividad económica	Productos
Agricultura	
Ganadería	
Pesca	
Explotación forestal	
Minería	
Industria de transformación	
Industria manufacturera	

**Encuentra en la sopa de letras los 5 principales países a los que México compra (importa) principalmente mercancías, marcalos en el mapa.**

S	C	V	N	L	X	K	C	F	V	L	J	P
Q	H	I	D	T	A	D	X	L	J	K	A	S
D	I	U	C	O	R	E	A	T	A	T	P	P
R	N	M	B	N	U	D	Z	V	L	G	O	Z
K	A	E	P	R	Q	U	E	N	E	I	N	U
U	F	T	Z	N	A	K	L	A	M	U	J	S
S	O	D	I	N	U	S	O	D	A	T	S	E
V	K	J	C	B	P	N	I	P	N	Q	V	V
R	E	V	E	Z	N	X	W	L	I	K	L	K
J	Y	D	N	K	A	D	A	N	A	C	H	W

**Marca los cinco países principales productores de petróleo:**



Estados Unidos de América, México, Noruega, Emiratos Árabes Unidos, Irán y Nigeria.

**Señala la respuesta correcta a cada premisa:**

**El PIB es:**

comprar lo necesario  
intercambio de bienes

indicador económico  
producto interno bruto

**El ingreso per cápita es:**

comprar lo necesario  
intercambio de bienes

indicador económico  
producto interno bruto