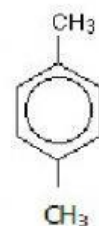


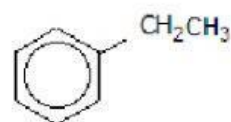
ورقة عمل لدرس الهيدروكربونات الأروماتية

السؤال : صلي بين كل مركب و اسمه .

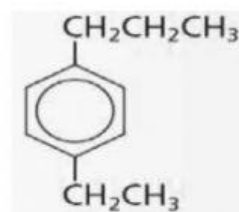
1-ايشيل -3,5- ثنائي
ميثيل بنزين



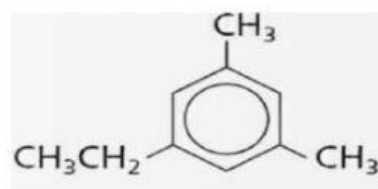
ايشيل بنزين



1,4 - ثنائي ميثيل بنزين



1-بروبيل -4- ايشيل بنزين



عمل الطالبة : أسماء علي لحه