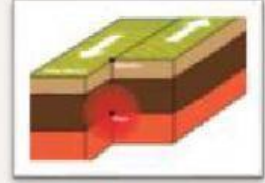


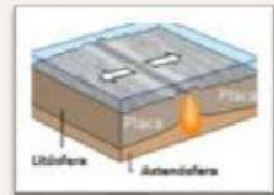
TEMA: MOVIMIENTOS DE LAS PLACAS TECTÓNICAS

Une con una línea el nombre del movimiento con la imagen.

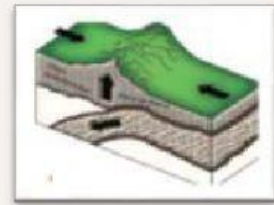
Movimiento de separación



Movimiento de convergencia



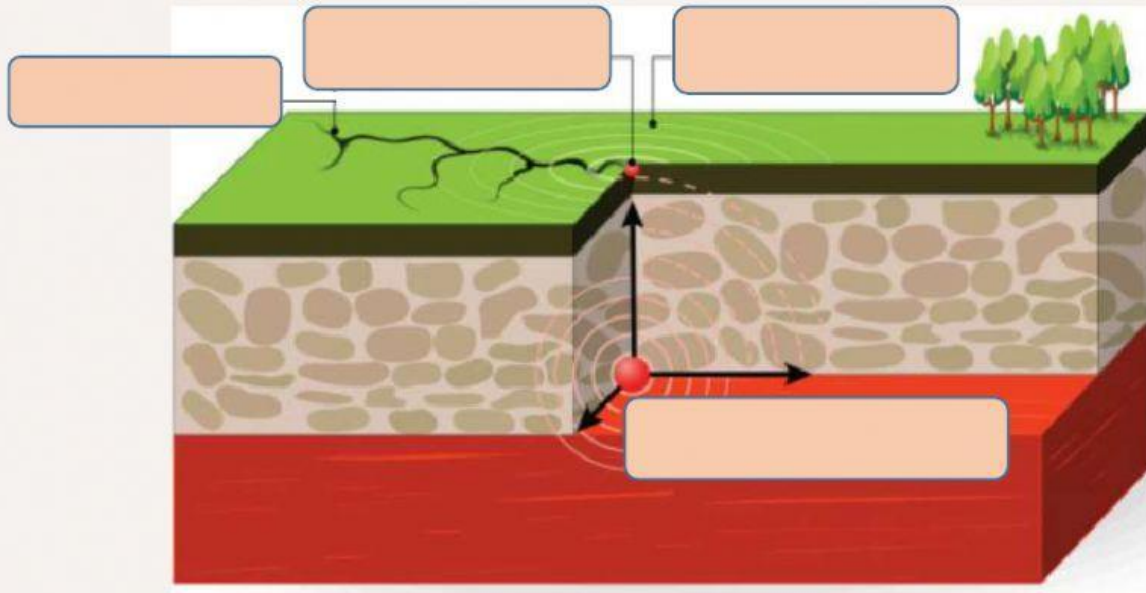
Movimiento de deslizamiento o transformante



Selecciona la opción correcta.

1. El movimiento de es cuando las placas tectónicas se presionan unas a otras.
2. Se llama movimiento cuando las placas tectónicas se deslizan de manera lateral en direcciones contrarias.
3. Cuando las placas tectónicas se desplazan y separan provocando la salida de magma (roca fundida) en los fondos oceánicos, renovándolos a este movimiento se le llama .

Arrastra la palabra al lugar correcto.



EPICENTRO

ONDAS SISMICAS

HIPOCENTRO O FOCO

FALLA