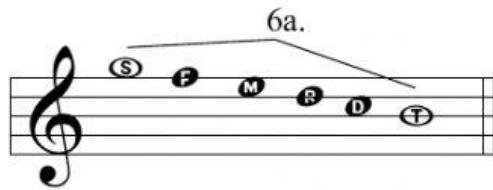
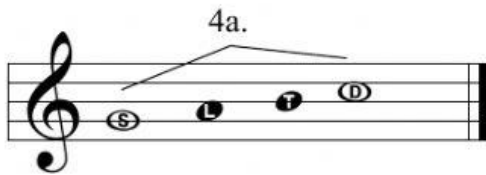


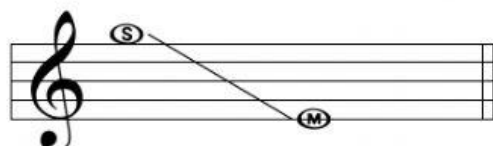
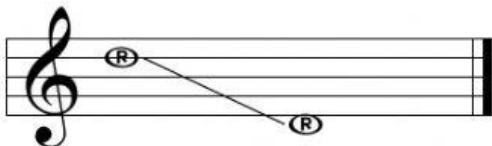


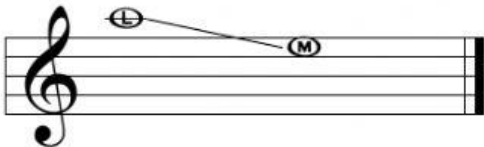
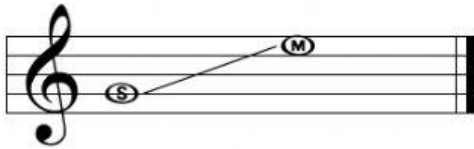
Cálculo de Intervalos. Segunda parte

Los siguientes intervalos corresponden a una...



Instrucciones:

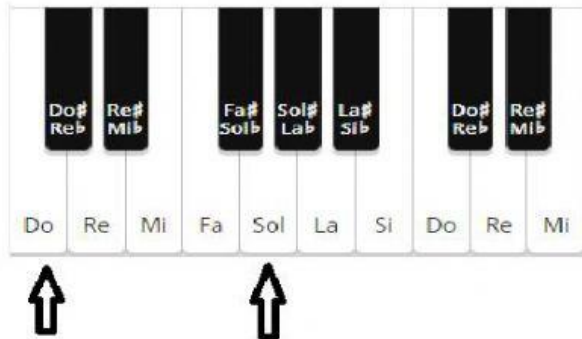
- Cuentas las líneas y espacios como esta indicado en los ejemplos anteriores.
- indica en el recuadro el número correcto que corresponde a los siguientes intervalos.



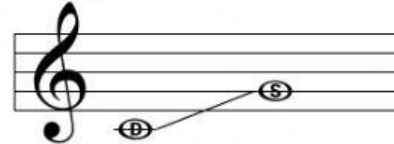
Nombre: _____ Grupo: _____ Fecha: _____

Cálculo de Intervalos aplicados al teclado

En el siguiente teclado las flechas marcan las notas Do y Sol. Contando a partir de la segunda tecla, entre negras y blancas, hay 7 teclas o semitonos. Pero contando las líneas y espacios en el pentagrama, sin repetir hay una 5a.



En el pentagrama, este intervalo corresponde a las notas



...Lo anterior indica que en este intervalo de 5a. justa, hay 7 teclas o semitonos... ¡Así de sencillo!

Instrucciones: Observa el siguiente teclado



- Cuenta las líneas y espacios. En el recuadro de la izquierda indica el número del intervalo existente.
- En el recuadro de la derecha indica cuántas teclas hay de una nota a otra

