

























RETO

MATEMÁTICO

Coloca los números y calcula. Después, fíjate en los resultados y escribe quién es el encargado de cada animal en el zoo. No se puede usar calculadora. Tienen que entregar en una hoja aparte las operaciones hechas.

					
$642-247=$	$23 \times 2=$	$42 \times 3=$	$428+233=$	$478+235=$	$32 \times 4=$
					
$275+429=$	$24:2=$	$723-247=$	$38:2=$	$615-234=$	$46:2=$

 Ignacio	 Rocío	 Enrique	 Esther	 Diana	 Jaime
704	126	496	12	128	23
 Antonio	 Jesús	 Adriana	 Yolanda	 Pedro	 Juan
381	46	395	713	19	661