





Patrones aditivos



Recuerda: Los **patrones aditivos** permiten construir secuencias crecientes (por sumas) o decrecientes (por restas)

Completa los patrones.

A. Escoge el conjunto de figuras que completa el patrón



B. ¿Qué regla siguió el patrón anterior? Escoge la regla.

sumar 1

sumar 2

restar 1

restar 2

C. Completa cada patrón y escoge la regla que usaste para hallar el término que faltaba.

8

16

24

32

regla
o patrón

18

15

12

9

regla
o patrón

45

40

35

30

regla
o patrón

9

13

17

25

regla
o patrón

15

13

9

7

regla
o patrón