

EVALUACION I PARCIAL DEL SEGUNDO QUIMESTRE

MATEMÁTICA

NOMBRE:

GRADO:

PARALELO:

LEA DETENIDAMENTE LAS SIGUIENTES PREGUNTAS, RESPONDA SEGÚN CORRESPONDA

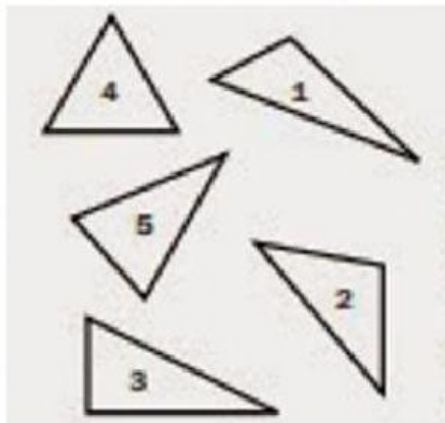
1.- COMPLETE

El triángulo isósceles tiene

El triángulo escaleno tiene

El triángulo equilátero tiene

2.- MARCA CON UNA X EN EL LUGAR CORRESPONDIENTE

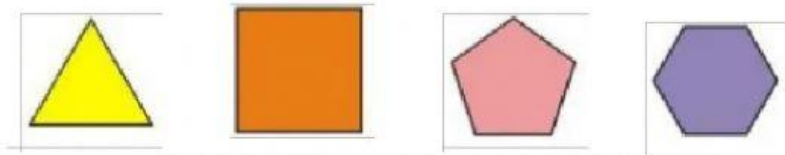


| | EQUILATERO | ISÓSCELES | ESCALENO |
|---|------------|-----------|----------|
| 1 | | | |
| 2 | | | |
| 3 | | | |
| 4 | | | |
| 5 | | | |
| | | | |

3.- COMPLETA CON LA TEORIA ESTUDIADA, RELACIONA CON LOS RECUADROS

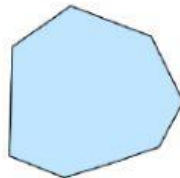
- Un triángulo se llama si tiene un ángulo recto
- Un triángulo que tiene un ángulo obtuso se llama
- Un triángulo tiene los tres lados agudos

4.- COMPLETA LA TABLA DE POLÍGONOS REGULARES



| | | | | |
|----------------------|----------------------|----------------------|----------------------|----------------------|
| Nombre del polígono | <input type="text"/> | <input type="text"/> | <input type="text"/> | <input type="text"/> |
| Número de lados | <input type="text"/> | <input type="text"/> | <input type="text"/> | <input type="text"/> |
| Número de vértices | <input type="text"/> | <input type="text"/> | <input type="text"/> | <input type="text"/> |
| Número de diagonales | <input type="text"/> | <input type="text"/> | <input type="text"/> | <input type="text"/> |

5.- TODOS LOS LADOS DE LA FIGURA TIENEN MEDIDAS DIFERENTES





ESCOGE LA OPCIÓN CORRECTA

Es un pentágono regular.

Es un heptágono irregular.

No es un polígono regular.

| | | |
|--|--|---|
| <p>Ministerio de Educación</p>  | <p>UNIDAD EDUCATIVA "ARUPOS" Educación a Distancia Régimen Sierra y Amazonía Resolución MINEDUC-2021-0005-R de 24 -11-2021</p> <hr/> <p>Instrumento de Evaluación Parcial 3 Año lectivo 2021-2022</p> |  |
|--|--|---|

TERMINO