

Actividades de orden y equivalencia - Pág. 62

Cuarto Primaria

Matemática

Miss Lídice Avalos



Instrucciones generales: Lee atentamente las instrucciones que aparecen en cada ejercicio y realiza lo que se te pide.

- I) Forma el diagrama de flechas de las relaciones que se te piden.

...Es el anterior de...	
1	2
3	4
5	

...es el siguiente de...	
1	2
3	4
5	

Actividades de orden y equivalencia - Pág. 62


Cuarto Primaria

Matemática

Miss Lídice Avalos



- II) Observa la imagen y ordena el nombre de los chicos, siguiendo la relación de orden “es más alto que...”. Marca con una “x” en la tabla.



	Isabel	José	Laura	Pedro	Marco	Carla
Isabel						
José						
Laura						
Pedro						
Marco						
Carla						

Actividades de orden y equivalencia - Pág. 62


Cuarto Primaria

Matemática

Miss Lídice Avalos



III) Observa la imagen y ordena el nombre de los chicos, siguiendo la relación de clasificación “es del mismo género que...”. Marca con una “x” en la tabla.



	Isabel	José	Laura	Pedro	Marco	Carla
Isabel						
José						
Laura						
Pedro						
Marco						
Carla						

Actividades de orden y equivalencia - Pág. 62



Cuarto Primaria

Matemática

Miss Lídice Avalos



IV) Observa el cuadro de la imagen y responde ¿De qué tipo es cada relación?

Conjunto básico	Relación
{alumnos de tu clase}	"... vive en la misma zona que..."
{personas de tu familia}	"... es menor que..."
{ 	"...tiene el mismo tamaño que..."
{números de dos cifras}	"... es mayor que..."
{consonantes del alfabeto}	"...está después de..."
{números de tres cifras}	"...tiene la misma cifra en las decenas que..."
{ 	"...tiene la misma forma que..."