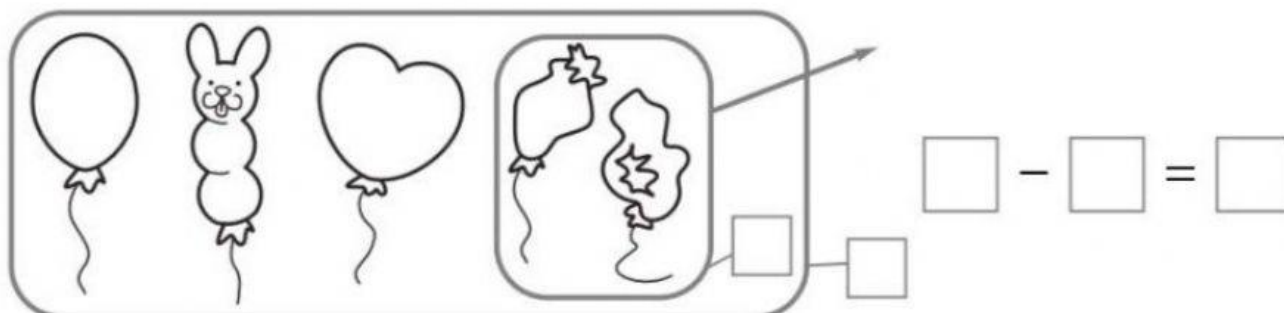


● Osserva e completa il disegno. Poi rispondi alle domande ed esegui il calcolo.



Quanti erano i palloncini?


Per sapere quanti palloncini

Quanti ne sono scoppiati?

sono rimasti hai dovuto

Quanti ne sono rimasti?

..... i palloncini scoppiati.



Quanti sono i pulcini?

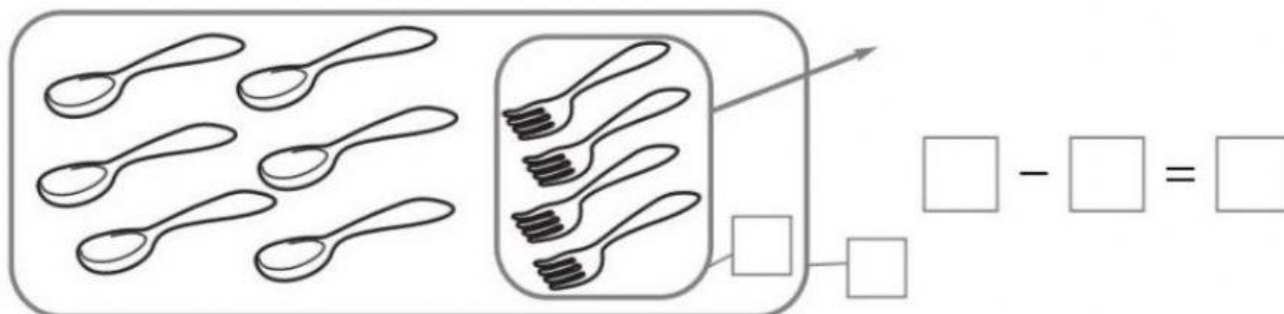
Per saper quanti sono i pulcini

Quanti sono i pulcini neri?

non neri hai dovuto

Quanti i pulcini **non** neri?

i pulcini neri.



Quanti sono i cucchiaini?

Per trovare la differenza hai

Quante sono le forchette?

dovuto

Quanti cucchiaini in più?

le forchette.