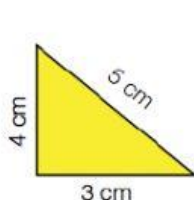
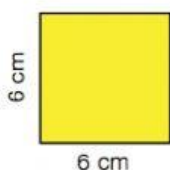


MATEMÁTICAS

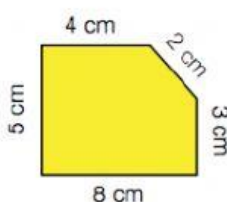
1 Calcula el perímetro de cada polígono. EN EL RECUADRO DE LA SOLUCIÓN SOLO TENÉIS QUE PONER LA CIFRA QUE OS DE EL PERÍMETRO, EN NÚMERO.



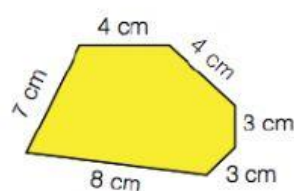
cm



cm



cm



cm

2. Marcos tiene una finca con forma de rectángulo cuyos lados miden 60 m y 25 m, y le ha puesto una valla alrededor. ¿Cuántos metros de valla ha utilizado?

3. Virginia tiene 3 láminas cuadradas de 15 cm de lado. Quiere ponerles un marco de madera a todas. ¿Tendrá bastante con un listón de 200 cm de longitud? ¿Cuántos centímetros le faltan o sobran?

Tiene bastante y le

cm

3. El ayuntamiento de una ciudad ha vallado un parque con forma de cuadrado y ha utilizado 1.000 m de valla. ¿Cuántos metros mide el lado del parque?

El lado del parque mide m