

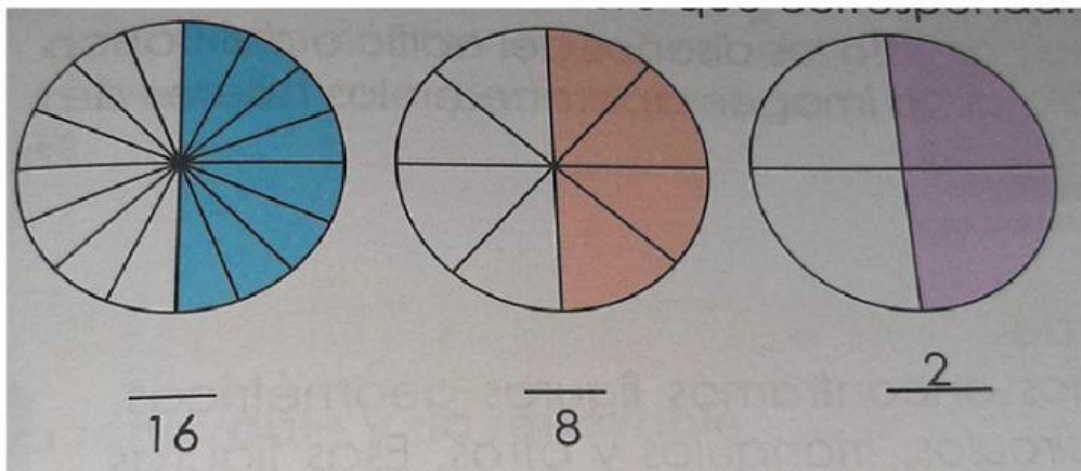


INEB INED PFS, AMATITLÁN
BASICO I BLOQUE: 2 CLASE: 1
PROFA: GLADYS ANDREA GONZÁLEZ

Fecha:

Nombre Completo: _____

En los espacios en blanco escriba el número que corresponde.



Simplifica las siguientes fracciones en su forma más simple.





a) $\frac{8}{12} = \frac{\square}{\square} = \frac{\square}{\square}$ b) $\frac{14}{21} = \frac{\square}{\square}$ c) $\frac{10}{20} = \frac{\square}{\square} = \frac{\square}{\square}$ d) $\frac{8}{16} = \frac{\square}{\square} = \frac{\square}{\square} = \frac{\square}{\square}$


e) $\frac{9}{18} = \frac{\square}{\square} = \frac{\square}{\square}$ f) $\frac{6}{30} = \frac{\square}{\square}$ g) $\frac{12}{54} = \frac{\square}{\square} = \frac{\square}{\square}$ h) $\frac{22}{66} = \frac{\square}{\square} = \frac{\square}{\square}$


**Compara las
siguientes fracciones**



a) $\frac{1}{6}$  $\frac{1}{4}$

b) $\frac{3}{4}$  $\frac{5}{8}$

c) $\frac{5}{6}$  $\frac{11}{12}$

d) $\frac{4}{7}$  $\frac{5}{8}$